

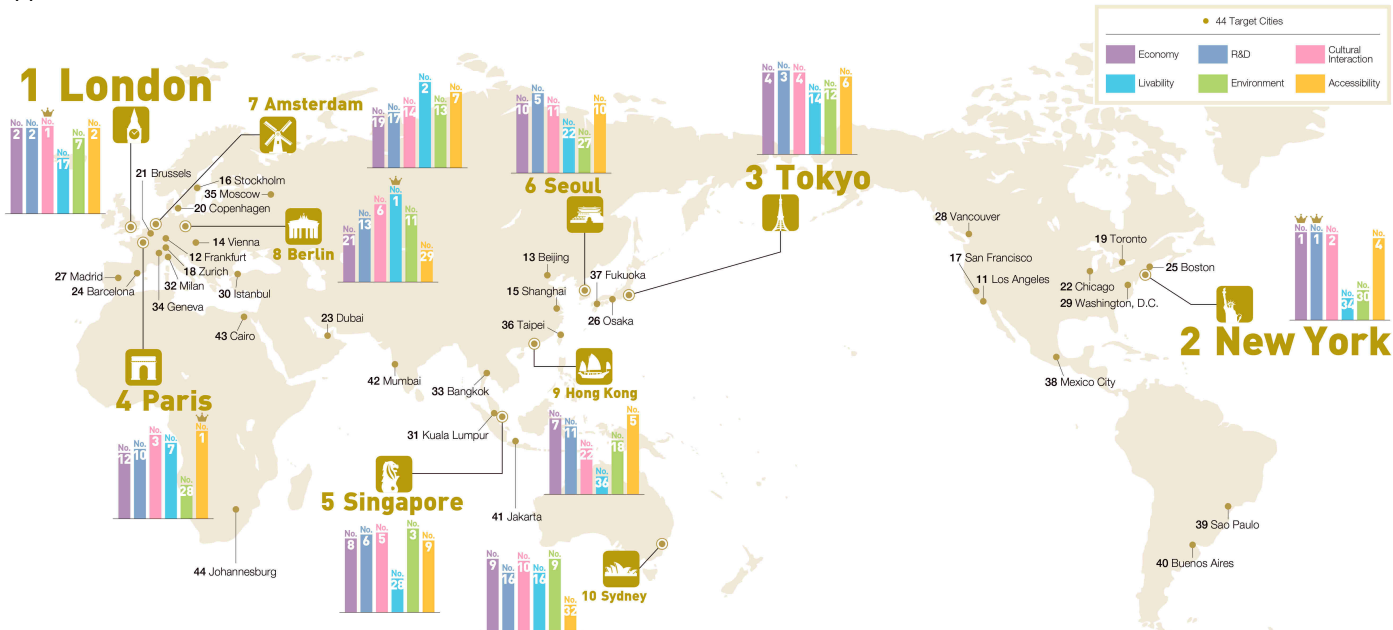
Questions de cours et exercices

I. Les villes à l'échelle mondiale : le poids croissant des métropoles, p. 32-33

1. Quels sont les 3 facteurs qui expliquent la croissance urbaine ?
2. Qu'est-ce qu'un mégapole ? Quelle est la plus grande aujourd'hui ?
3. Quelles sont les grandes caractéristiques des métropoles ?
4. Qu'est-ce qu'une mégalopole ?
5. Pourquoi s'est-il formé dans le monde un archipel mégalopolitain mondial ?

Document, Carte du Global Power City Index en 2017



« Le Global power city index est un indicateur d'intégration des métropoles à la mondialisation proposé par l'Institut pour des stratégies urbaines de la Mori Memorial Foundation. Le classement repose sur 70 indicateurs répartis en 5 domaines : économie, recherche et développement, interaction culturelle, vivabilité, environnement, et accessibilité » . <http://geoconfluences.ens-lyon.fr/actualites/veille/liens/global-power-city-index>



Consigne : Pourquoi peut-on dire que cette carte illustre le processus de métropolisation – et pas seulement le processus d'urbanisation – dans le monde ?


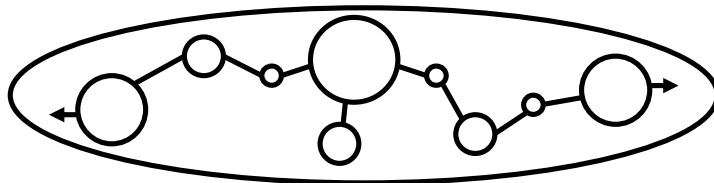
Définitions graphiques

Échelle locale, nationale



- Espace urbain
- Connexion
- Fonctions de commandement / infrastructures métropolitaines
- Rayonnement
- Polarisation

Échelle nationale, continentale



Échelle continentale, mondiale

