

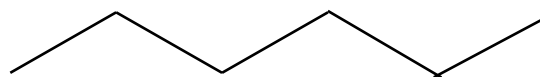
ÉTAPE 2 Série rouge - Grandeurs et mesures

Le trajet de Tim

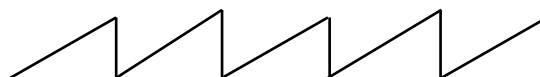
Quatre escargots traversent une route recouverte de pavés rectangulaires identiques.

Voici leur trajet.


Tom a parcouru 25 dm...



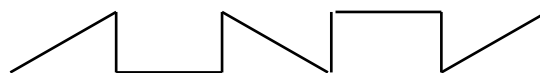
Pat a parcouru 27 dm...



Bob a parcouru 32 dm...



Tim a parcouru ?



Quelle est la longueur du trajet de Tim ?