


Mardi 31 mars Christian

Devinette


Mon solide a 6 faces, 12 arêtes et 8 sommets,
 Les faces ont la forme rectangulaires. C'est un solide droit.
 De quel solide s'agit-il?



Lilya et Yanis


Voici ma devinette: Lisa

Mon solide a 5 faces, 12 arêtes, 8 sommets. Les faces ont la forme de carrés.
 De quel solide s'agit-il?



Voici ma devinette:

Mon solide a 5 faces, 8 arêtes, 5 sommets.
 Les faces ont la forme de triangle et de rectangle.
 C'est un polyèdre.
 De quel solide s'agit-il?



Marius

diego

Voici ma devinette :

Mon solide a 5 faces, 8 arêtes, 5 sommets.
 Les faces ont la forme de triangle et d'un carré.
 De quel solide s'agit-il? Il s'agit d'un(e).....

