

L'emploi du temps de lundi 4 mai 2020

Accueil

Etude de la langue : toujours les déterminants, utiliser les déterminants possessifs et démonstratifs

Récréation

Mathématiques : Nous continuons les révisions sur les opérations, les multiplications avec les nombres décimaux

Repas

Anglais : In the kitchen, vous allez travailler à l'oral sur les phrases de la semaine dernière.

Lecture : le loup et l'agneau, vous avez vu le texte la semaine dernière, nous allons le travailler ce lundi.

Récréation

Sciences : les stades de développement des animaux, la chenille et le papillon

Pour mardi 5 mai 2020

4/05/2020

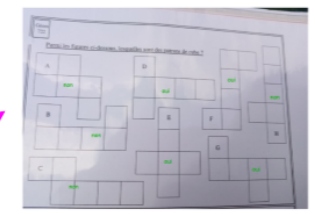
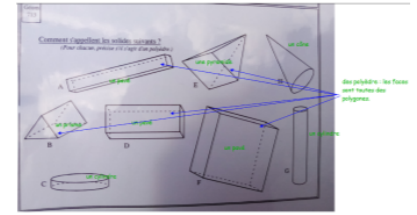
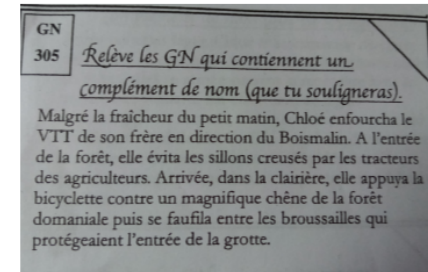
orth : mots de dictée

- l'ongle
- l'opinion
- l'orage
- l'ordonnance
- l'ordre

gram : exercice sur les CDN

lect orale 1 à 3



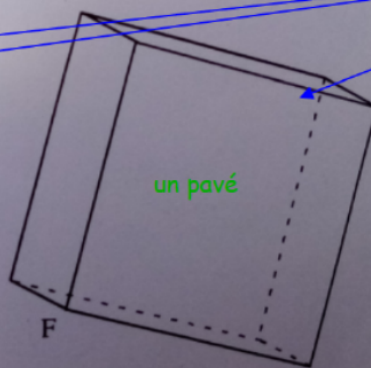

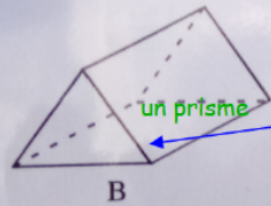
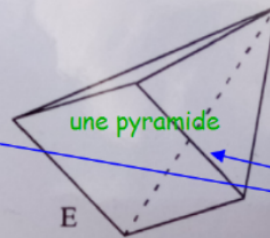

maths : table de 8
+ réviser les définitions de géométrie sur segments, droites, points, angles.



correction des devoirs

Géom
713

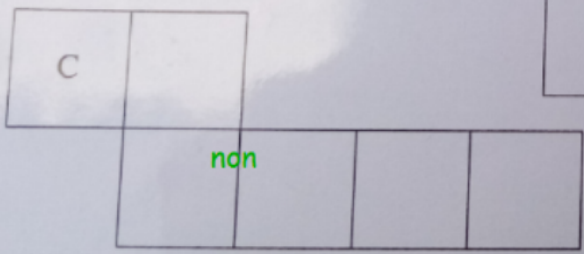
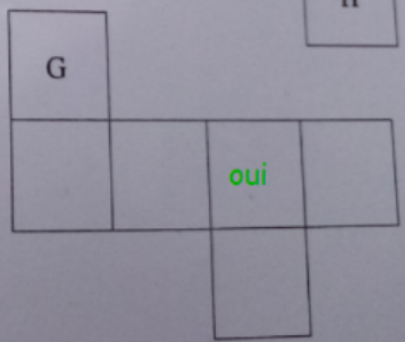

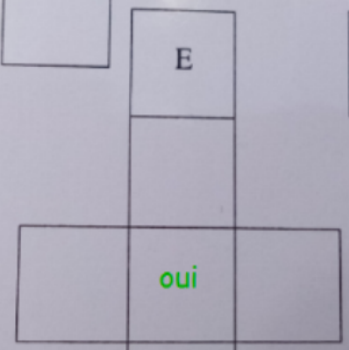
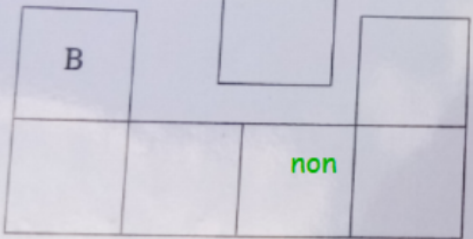
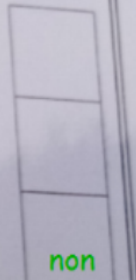
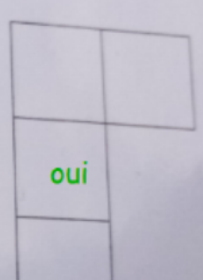


Comment s'appellent les solides suivants ?
(Pour chacun, précise s'il s'agit d'un polyèdre.)



des polyèdre : les faces
sont toutes des
polygones.

Géom
722

Parmi les figures ci-dessous, lesquelles sont des patrons de cube ?



GN

305

Relève les GN qui contiennent un
complément de nom (que tu souligneras).

Malgré la fraîcheur du petit matin, Chloé enfourcha le VTT de son frère en direction du Boismalin. A l'entrée de la forêt, elle évita les sillons creusés par les tracteurs des agriculteurs. Arrivée, dans la clairière, elle appuya la bicyclette contre un magnifique chêne de la forêt domaniale puis se faufila entre les broussailles qui protégeaient l'entrée de la grotte.