

## Pour quelles raisons certaines personnes n'ont -elles pas accès à internet?

- 
- 

Trouve au moins trois raisons pour expliquer cela. \_



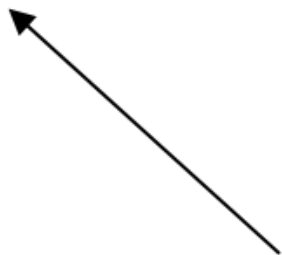
A faire dans le cahier de géographie,  
pensez bien à écrire la date, le titre et la  
consigne. Je vous demande 3 raisons, moi  
j'en ai trouvé 6! Alors, cherchez bien!

## Pour quelles raisons certaines personnes n'ont -elles pas accès à internet?

-  
-

Trouve au moins trois raisons pour expliquer cela. \_

- Il faut avoir les moyens de s'acheter un smartphone, un ordinateur ou une tablette
- Il faut avoir les moyens de payer un abonnement
- les personnes âgées ne savent pas utiliser l'informatique car ça n'existait pas quand elles étaient jeunes
- les gens ne savent pas lire
- de nombreux lieux n'ont pas encore le haut débit
- il n'ya pas du tout de réseau



Voilà 6 raisons, prenez bien le temps de recopier les raisons que vous n'avez pas trouvées!

## Pour quelles raisons certaines personnes n'ont -elles pas accès à internet?

-  
-

Trouve au moins trois raisons pour expliquer cela. \_

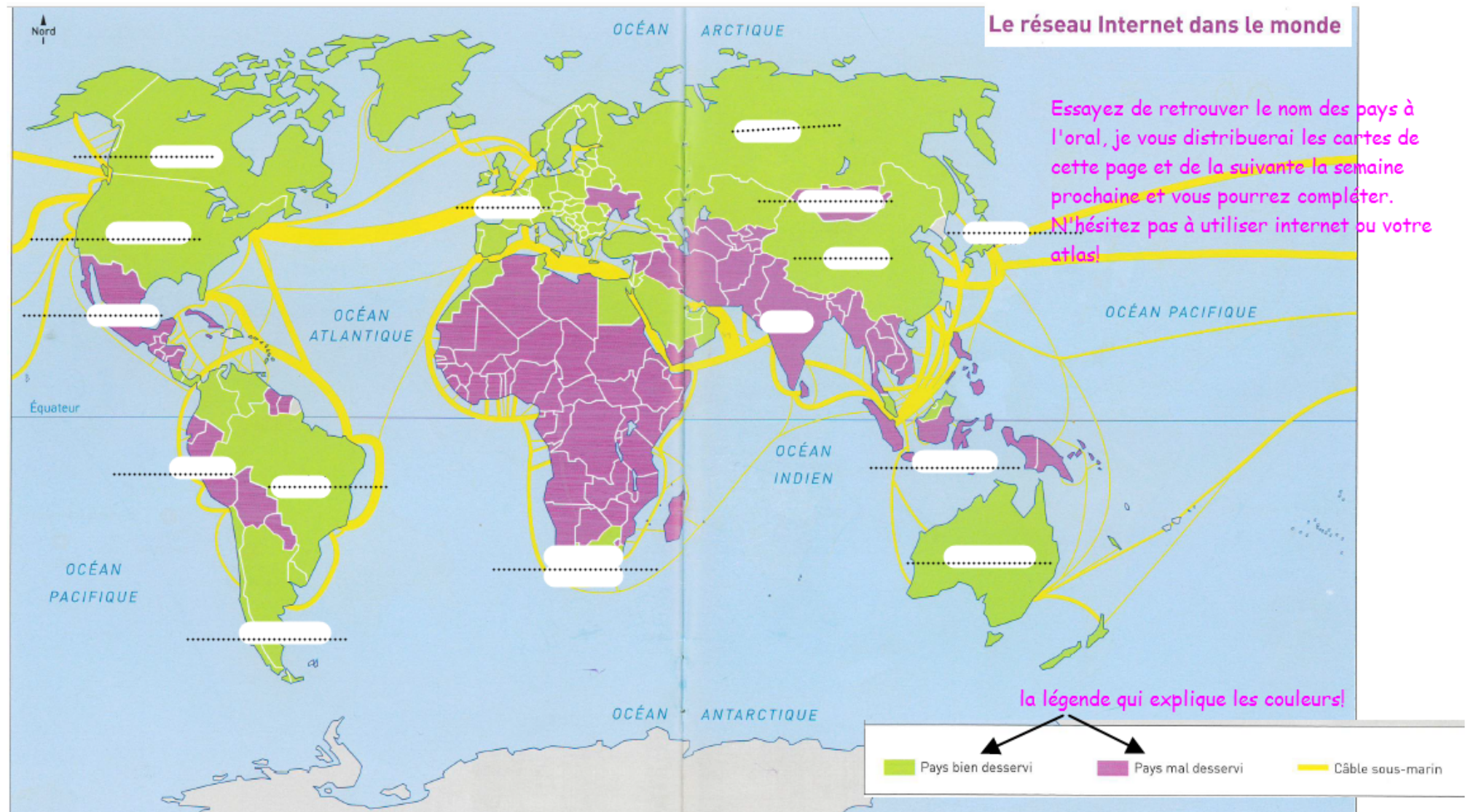
- Il faut avoir les moyens de s'acheter un smartphone, un ordinateur ou une tablette
- Il faut avoir les moyens de payer un abonnement
- les personnes âgées ne savent pas utiliser l'informatique car ça n'existait pas quand elles étaient jeunes
- les gens ne savent pas lire
- de nombreux lieux n'ont pas encore le haut débit
- il n'ya pas du tout de réseau

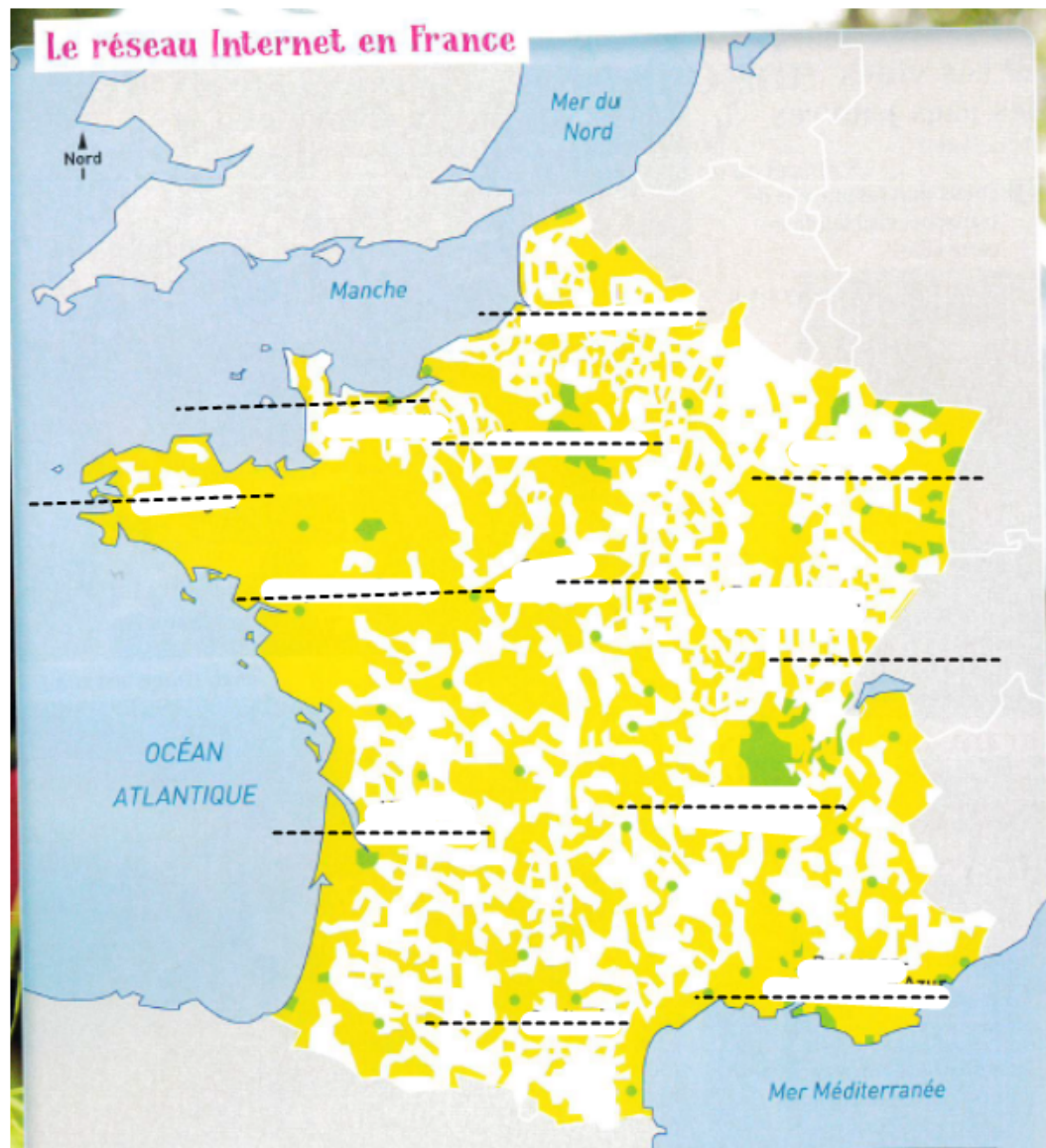
A écrire en bas de votre travail, c'est ce qu'il faut retenir!



En France, 10 millions de personnes sont exclues d'internet.

Dans le monde, 4 milliards de personnes n'ont pas accès à internet (3 milliards y ont accès)





En blanc, ce sont les zones où il est difficile de recevoir internet, en vert, les régions où on le reçoit correctement. Sur chaque trait, il faut retrouver le nom des régions. Vous avez déjà travaillé cela en début d'année. Révissez bien pour la semaine prochaine.