

L'emploi du temps de jeudi 30 avril

Accueil

Etude de la langue : il faut refaire la dictée 5 une seconde fois, puis vous passez aux déterminants, utiliser les articles

Récréation

Mathématiques : révisions de calculs sur les additions et soustractions avec les nombres décimaux

Repas

Lecture : Cheval de guerre, nous discutons des chapitres 19 et 20, vous lisez le 21 pour la semaine prochaine et moi je vous présente le nouveau livre.

EPS : un nouvel exercice de gym et du ping-pong!!

Rédaction : répondre aux lettres de vos camarades

Récréation

Géographie avec Madame Vidal

Pour lundi 4 mai :

Vendredi 1 est un vendredi à thème même s'il n'y a pas classe!! C'est vendredi qui me plaît, c'est à dire qu'on met sa tenue préférée et on se fait prendre en photo!!! Je les mettrai en ligne lundi, alors envoyez-les moi!!!

Orth : mots de dictée + 10 mots invariables, n'oubliez pas de bien les surligner

Infos : envoyer un message à Laura car c'est son anniversaire samedi 2! Ne lui dites pas que je vous l'ai soufflé!!



gram : savoir par coeur la leçon sur les déterminants

maths : table de 7 + deux exercices

lect orale 1 à 3

30/04/2020

- l'objectif
- l'objection
- l'océan
- l'obstacle
- l'obscurité



En grand pages 3 et 4

Correction des devoirs, en grand sur la page 2

GN

301

Relève les GN qui contiennent un
complément de nom (que tu souligneras).

En passant l'étroite porte du minuscule jardin, Chloé éprouvait une légère appréhension. Elle ressentait pour le vieil original de son village une attirance mêlée de respect. Elle traversa un carré de pelouse et frappa à la porte de la mesure. La fillette n'entendit pas la réponse de son hôte. Pourtant son guide ouvrit la porte et l'horrible oiseau entra en frôlant, de son aile, l'épaule gauche de la fillette.

1) commencer par
entourer les prépositions

2) souligner le groupe de
mots qui va avec

3 faire une flèche vers
le nom commun,
attention, si ce n'est pas
un nom commun, barrer!!!
C'est un complément du
verbe!!!



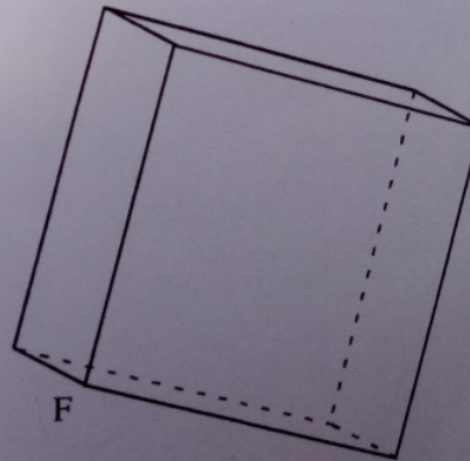

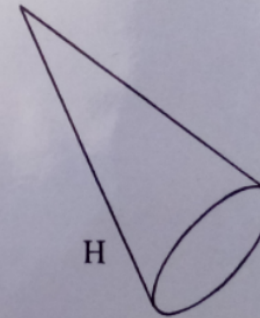
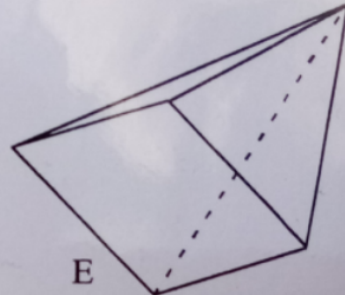

en clair :

En passant l'étroite porte du minuscule jardin, Chloé éprouvait une légère appréhension. Elle ressentait pour le vieil original de son village une attirance mêlée de respect. Elle traversa un carré de pelouse et frappa à la porte de la mesure. La fillette n'entendit pas la réponse de son hôte. Pourtant son guide ouvrit la porte et l'horrible oiseau entra en frôlant, de son aile, l'épaule gauche de la fillette.

Géom
713

Comment s'appellent les solides suivants ?

(Pour chacun, précisez s'il s'agit d'un polyèdre.)



Géom
722

Parmi les figures ci-dessous, lesquelles sont des patrons de cube ?

