

Déroulement de la journée de jeudi 28 mai 2020

Accueil

Etude de la langue : Préparation de la dictée 7 puis faire la dictée 7 puis se corriger.

Récréation

Mathématiques : révisions sur les mesures d'aire et de périmètre

Repas

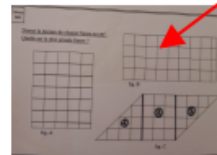
EPS : un jeu de marelle

Lecture : Le petit Lord Fauntleroy, lire les chapitres 6 et 7

EMC : Porter secours, trois nouvelles situations

Récréation

Géographie avec Madame Vidal



Pour vendredi 29 mai 2020 : qui est un vendredi à thème
Avec Amélie, nous avons choisi le thème Hawaii!! Nous attendons vos photos fleuries et vos chemises colorées

Orth : mots de dictée

Gram : bien relire les leçons sur les attributs du sujets ainsi que toutes les leçons sur les compléments du verbe.

Maths : exercice

lect orale 1 à 3

28/05/2020

- la plaine
- la plaisanterie
- la plante
- la plaque
- plat

Géom
660

Donne la mesure de chaque figure en cm^2 .

Quelle est la plus grande figure ?




fig. A


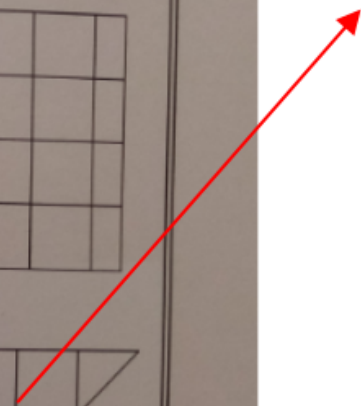


fig. B



fig. C

A calculer en trois fois



... vivants, tu sais.

verbes d'état, être
sembler paraître devenir
demeurer rester avoir

l'air

Gr
407

Souligne les attributs dans les phrases suivantes :

Pendant quelques minutes, ils restent silencieux.

Pendant tout ce temps, son prestige fut grand.

Au cours du premier trimestre, il semblait excellent.

Vous, vous êtes jeune et frais, vous êtes droit comme un i.

Elle restait attentive pendant des heures.