


Se repérer dans la semaine, dans l'année.

- 5 Recopie et complète en utilisant le dictionnaire.
- Un journal quotidien paraît chaque
 - Une revue mensuelle paraît chaque
 - Une publication annuelle paraît chaque
 - Un marché hebdomadaire se tient chaque
 - Une rencontre sportive trimestrielle a lieu chaque
 - Un bilan semestriel se déroule chaque

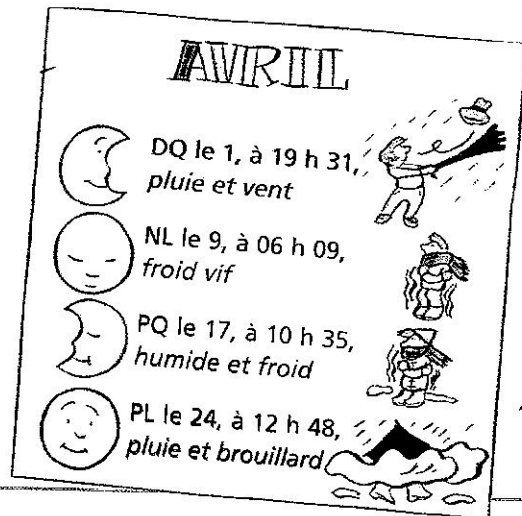
- 6 Le vendredi 13 juin, Florence a passé une commande par correspondance aux 5 Suisses. Le délai de livraison est de trois semaines. Quel jour Florence recevra-t-elle sa commande ?

- 7 Le 2 juillet, la directrice d'une entreprise reçoit une facture de 1 290 € à régler au plus tard dans 90 jours. Quelle est la date limite pour régler cette facture ?

- 8 Pour les grandes vacances, Yasmine va retrouver ses grands-parents qui habitent à Fès, au Maroc. Elle part le 30 juin à 14 h et arrive à Fès le 2 juillet à 18 h. Quelle est, en heures, la durée de son voyage ?

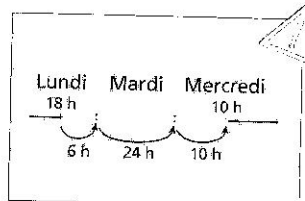


- 9 Observe le calendrier lunaire du mois d'avril.
- Combien y a-t-il de jours entre deux phases de la Lune ?
 - Calcule le nombre d'heures entre le premier quartier (PQ) et la pleine Lune (PL).



- 10 Chantal décide de compter jusqu'à un million en disant un nombre toutes les secondes : « un, deux, trois... »
- En un jour, jusqu'où compte-t-elle ?
 - Pendant environ combien de temps devrait-elle compter pour arriver à un million : 3 jours ? 12 jours ? 6 mois ? 1 an ?

1 année = 365 jours
 (366 les années bissextiles)
 1 jour = 24 h
 1 h = 60 min
 1 min = 60 s



LE COIN DU CHERCHEUR

Je pense à un nombre.
 Je lui ajoute 50.
 Je retranche 8 au résultat trouvé.
 J'obtiens 162.

À quel nombre ai-je pensé ?

