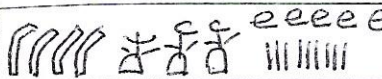





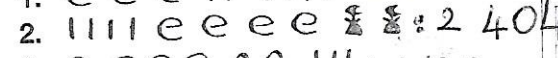

2. Reproduis et complète le tableau.

Nombres en numération égyptienne	Nombres en chiffres	Nombres en lettres
	43 509	quarante-trois mille cinq cent neuf
	406 100	quatre cent six mille cent
	122 403	cent vingt deux mille quatre cent trois

LEXIQUE


1000000
 100000
 10000
 1000
 100
 10
 1

3. Un scribe recense les richesses de trois fermes sur un domaine. Il trouve pour les chèvres :

-  : 314
-  : 2 404
-  : 423


Combien y a-t-il de chèvres en tout ? Effectue le calcul en numération égyptienne.

Écris le résultat dans les deux systèmes de numération.

total : 3 141


JEU DES PYPYRUS



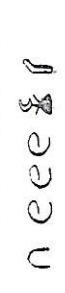
Le papyrus indique qu'il y avait 251368 mesures de blé. Grâce à cet indice, décrypte le système de numération de l'Égypte ancienne.



mesures de blé : 251 368
 nombre d'ovies : 20 000 + 4 000 + 70 + 5
 nombre de pots de bière : 7 + 10 + 900 + 1000

Je m'exerce

1. Reproduis et complète le tableau.

Nombres en numération égyptienne	Nombres en chiffres	Nombres en lettres
	123 200	cent vingt-trois mille deux cents
	321 022	trois cent vingt et un mille vingt-deux
	11 310	onze mille trois cent dix

ARCHÉOLOGIE