


Nombres



Nom Prénom Date

<https://laclassebleue.fr/>

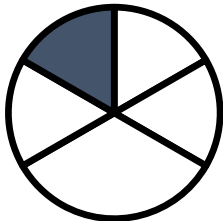
1 Écris les fractions dictées par le maître.

A B C D E F G H I J


2 Est-il possible d'écrire la partie colorée sous forme d'une fraction ?



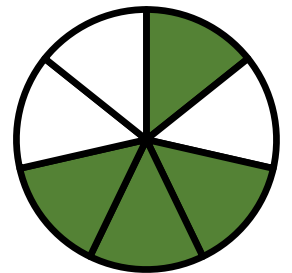
OUI NON



OUI NON



OUI NON



OUI NON

3 Écris en chiffres.

- a) un tiers
- b) deux quarts
- c) trois demis
- d) cinq huitièmes
- e) neuf sixièmes
- f) dix douzièmes
- g) quatre cinquièmes
- h) dix-sept tiers
- i) quinze vingtièmes
- j) deux demis
- k) huit quarts
- l) un centième

A B C D E F G H I J K L

4 Colorie pour obtenir la fraction demandée.

