

Nombrees


Nom Prénom Date

<https://laclassebleue.fr/>

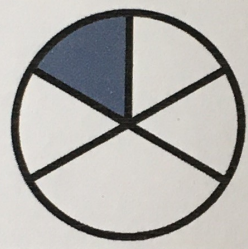
1 Écris les fractions dictées par le maître.

A B C D E F G H I J


2 Est-il possible d'écrire la partie colorée sous forme d'une fraction ?




OUI NON



OUI NON



OUI NON



OUI NON

3 Écris en chiffres.

- a) un tiers
- b) deux quarts
- c) trois demis
- d) cinq huitièmes
- e) neuf sixièmes
- f) dix douzièmes
- g) quatre cinquièmes
- h) dix-sept tiers
- i) quinze vingtièmes
- j) deux demis
- k) huit quarts
- l) un centième

$\frac{1}{3}$ $\frac{2}{4}$ $\frac{3}{2}$ $\frac{5}{8}$ $\frac{9}{6}$ $\frac{10}{12}$ $\frac{4}{5}$ $\frac{17}{3}$ $\frac{15}{20}$ $\frac{2}{2}$ $\frac{8}{4}$ $\frac{1}{100}$

4 Colorie pour obtenir la fraction demandée.

$\frac{3}{4}$
 $\frac{5}{6}$
 $\frac{4}{8}$
 $\frac{7}{10}$
 $\frac{2}{5}$