

Interrogation sur l'heure

1) Quelle heure est-il ? Indique l'heure du matin puis l'heure de l'après-midi ou du soir :



Heure du matin				
Heure de l'après-midi ou du soir				

3) Complète :

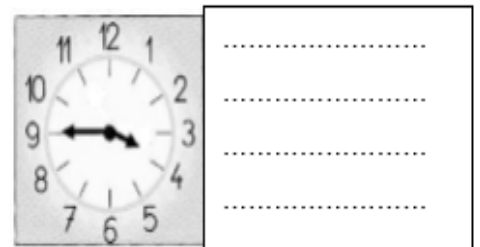
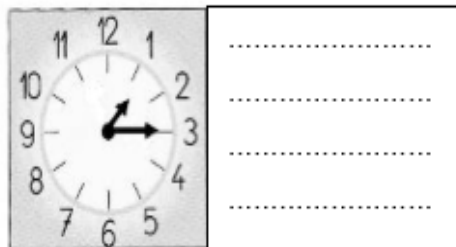
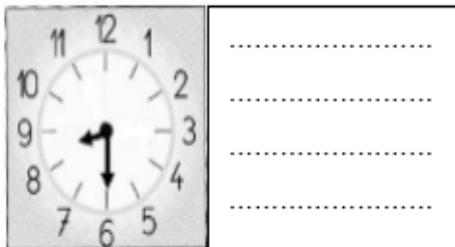
Un quart d'heure = minutes.

Une demie heure = minutes.

Trois quart d'heure = minutes

Une heure = minutes.

4) Ecris l'heure qu'il est sur chaque horloge en utilisant le vocabulaire « et quart », « et demie », « moins le quart ».



5) Relie chaque heure à la bonne horloge.



Midi moins vingt

Neuf heures moins dix

Sept heures moins le quart

Neuf heures moins trois