

Lire l'heure (2)

Découvrons ensemble

Observe et complète.



Demain, je prends le train à 7 h du soir.




Est-ce le train de 19 h ?



matin

..... h

+ 12 h



soir

..... h

Les heures du soir sont écrites en **bleu** sur cette horloge.



Pour passer de l'heure du matin à l'heure du soir, on ajoute heures.

Je m'entraîne

1 Écris les heures du matin et du soir.



matin

..... h

soir

..... h



matin

..... h

soir

..... h

2 Écris les heures du matin et du soir.




matin

..... h

soir

..... h



matin

..... h

soir

..... h

3 Problème

Quelle heure est-il ?

Il est

Quel film Mélissa peut-elle encore voir ce soir ?

Mélissa peut voir le film numéro

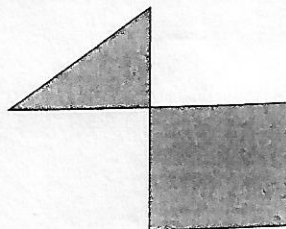
C'est samedi soir.



Films	Horaires
① Fantômes !	18 h 00
② Les Choupinettes	20 h 00
③ La Fée Zorzone	22 h 00

Le coin du chercheur

Combien d'angles droits comptes-tu dans la figure bleue ?



.....