



+ cahier orange

Son petit dans la poche ventrale, l'animal s'éloigne en bondissant.

- ① une baleine      ② un kangourou      ③ un lapin

Il frétille au bout de la ligne quand le pêcheur le sort de l'eau.

- ① un oiseau      ② un poisson      ③ un serpent

Dès que Pierre approche sa main, elle rentre la tête dans sa carapace.

- ① une tortue      ② une chouette      ③ un escargot

Une époussette s'abat sur lui avant qu'il ne puisse se cacher dans les rochers.

- ① un éléphant      ② un requin      ③ un crabe


Il se balance liane en liane à la recherche de nourriture.

- ① un écureuil      ② un lion      ③ un singe

En sentant le danger approcher, il se met en boule.


- ① un chat      ② un rat      ③ un hérisson

**Je lis**  
**Je fais**



- 1 Poussy, le chat brun, dort **sur** la chaise.
- 2 Lucifer, qui ronronne **contre le** canapé, est noir.
- 3 Son frère, Marrou, préfère dormir **sur** le canapé : il est roux.
- 4 Matou, marche **entre** le canapé **et** la table : son poil est noir et blanc.
- 5 Minou, le chat gris, est **sur** la table.
- 6 Tous les autres chats sont blancs : on ne connaît pas leur nom.
- 7 **Le poisson qui est dans le bocal** est jaune : **celui qui est accroché au mur** est rouge.

# Orthographe



Départ

voiture	cheval	chemin	éponge	carton
fumée	revenir	fenêtre	canapé	chaton
mariage	volier	livre	trousse	feutre
cartable	ombre	vipère	école	brun
touche	enfant	savon	tasse	classe
vautour	vase	volant	écran	nuage
enveloppe	piste	cadre	nappe	barbe
Valise	cravate	étoile	enfant	maison
bol	volcan	vache	endive	avion

Arrivée

Dictée

Ecris la phrase dictée. Tu as le droit de poser des questions.

# Grammaire



Trouve le chemin en entourant les noms pluriels.

Départ ▼					
des livres	une tomate	une famille	la chemise	mon cahier	Une pomme
Les salades	un carton	ton cheval	un bracelet	une caisse	Le crayon
mes chiens	des boîtes	tes amis	chanter	des tables	Les voitures
déjà	merci	les arbres	La cantine	tes jupes	mon rat
la fraise	sauter	mes cousins	des poires	Les enfants	ta fleur
▶ Arrivée					

Ecris les articles qui peuvent convenir : un-le, une-la, des-les



bananes



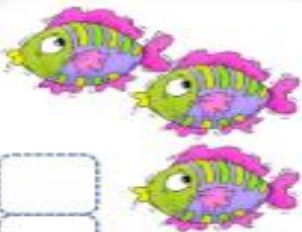
réveil



bottes



pomme



poissons



bateau



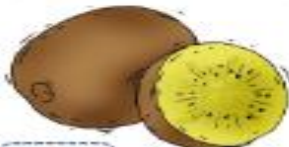
myrtilles



vélo



pie



kiwis



sac



cerises



cabane



niche



danseuse



souris

# Écriture

Ecris une phrase qui contient le mot **amis / amies**

- 1) Je construis la phrase dans ma tête.
- 2) J'écris sur un brouillon, en pensant à la majuscule, au point, je sépare bien les mots.
- 3) L'adulte corrige, en m'expliquant mes erreurs.
- 4) Je recopie dans mon cahier.



# Nombres et Calculs



Gabriel et Farid jouent aux billes. Aide-les à **compter** leurs billes.

1

Gabriel



Écris une égalité avec des 10.

10+.....

Complète les deux tableaux.

Gabriel	
dizaines (d)	unités (u)

Farid



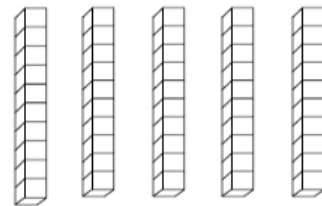
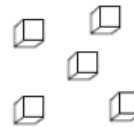
Écris une égalité avec des 10.

10+.....

2

Colorie le nombre indiqué.

32



3

Complète le tableau comme dans l'exemple.

24	2d4u	20 + 4	10 + 10 + 4
	3d8u		
		50 + 4	
			10 + 10 + 10 + 10 + 6

4

Colorie de la même couleur les étiquettes qui représentent le même nombre.

5 + 20

52

40 + 10 + 2

50 + 2

20 + 5

10 + 10 + 5

25

2 + 50


10 + 10 + 10 + 10 + 10 + 2



Fais avancer la grenouille. Colorie le chemin de son parcours et entoure sa case d'arrivée.



-1   
  +10   
  +10   
  +1   
  -10   
  +1   
  +1

10	11	12	13	14	15	16	17	18	19
20	21		23	24	25	26	27	28	29
30	31	32	33	34	35	36	37	38	39
40	41	42	43	44	45	46	47	48	49
50	51	52	53	54	55	56	57	58	59

$34 = 30 + 4$

$53 = \_ + \_$

$42 = \_ + \_$

$48 = \_ + \_$

$51 = \_ + \_$

$37 = \_ + \_$

$27 = \_ + \_$

$35 = \_ + \_$

$54 = \_ + \_$

Ecris les nombres dans l'ordre croissant, du plus petit au plus grand:

39 - 49 - 55 - 54 - 45

Trouve le nombre qui vient avant et celui qui vient après

— 59 —

— 30 —


— 52 —

— 54 —

— 49 —

— 57 —

# Problème



Zoé a **14 cartes**.  
Elle en donne la **moitié** à Arthur.



Combien de cartes Zoé donne-t-elle à Arthur ?

Je cherche

Je calcule

Je réponds

Zoé donne ..... cartes à Arthur.



Zoé compte ses images.  
Elle fait **6 paquets de 10 images** et il lui reste encore **2 images**.



Combien Zoé a-t-elle d'images ?

Je cherche

Je calcule

Je réponds

Zoé .....



Trace le camion en suivant les pointillés.

Trace les traits à la règle.

