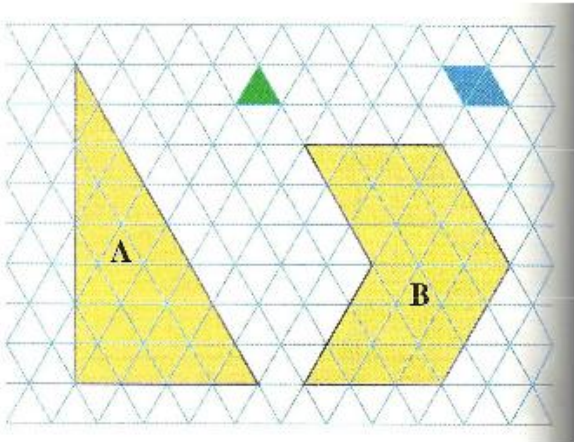


CM1

Mesures : les aires

1



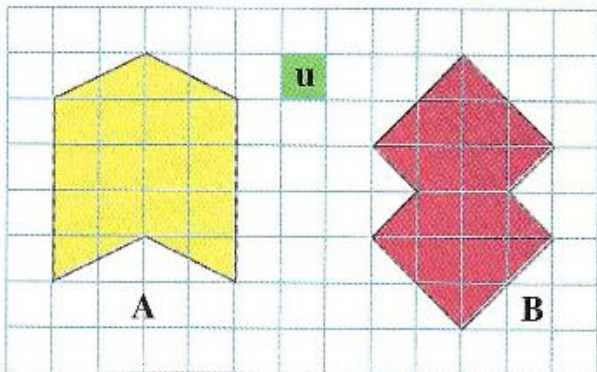
A / Le triangle vert est l'unité d'aire u .
☞ Quelle est l'aire des figures A et B ?

☞ Complète :
Aire < Aire

B / Le losange bleu est l'unité d'aire v .
☞ Quelle est l'aire des figures A et B ?

☞ Obtiens-tu les mêmes valeurs qu'avec l'unité u ?

2



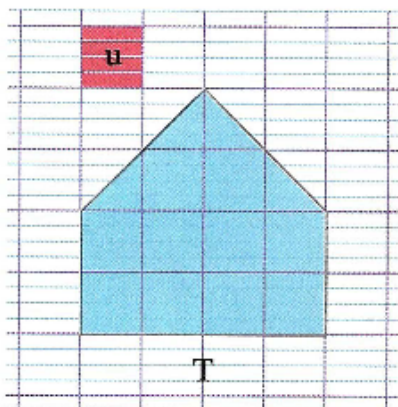
• Mesure les aires de ces figures.

Figure A = u

Figure B = u

• Quelle figure a l'air la plus grande ?

3



a/ Mesure l'aire de la figure T avec l'unité u .

b/ Sur une feuille de classeur, trace une figure P de forme différente mais de même aire que la figure T.

Bonus :

Trace un rectangle R d'aire double de celle de la figure T

Grammaire : Les compléments du verbes (COD et COI) :

- 1- Recopie les phrases suivantes, souligne en rouge les verbes conjugués, écris leur infinitif et colorie en jaune les COD :

La fillette lit un conte de fées. - La sorcière a des pouvoirs magiques. - Le prince quitte le château à cheval. - Le pêcheur a attrapé deux brochets et une tanche dans le lac. - Demain, nous arracherons les pommes de terre. - Mon père a trouvé un sac dans la rue.

2) Dans les phrases suivantes, souligne le groupe sujet en jaune, encadre le verbe en rouge et souligne le COD en bleu.

- a) Le cocher arrête son fiacre.
- b) La jeune femme remercie Paulo.
- c) Paulo range ses pièces.
- d) Le jeune garçon aidera Nadar.

**Dans les phrases suivantes, encadre les COD et souligne les COI.
Conseil : Trouve d'abord le verbe et son sujet ! Tu peux les entourer et les souligner :**

- a) Je montre ma nouvelle console de jeu à mes copines.
- b) Certains enfants croient aux fantômes.
- c) Le médecin prescrit des médicaments.
- d) Les élèves n'aiment pas sortir en récréation quand il pleut.
- e) Dimanche, tu réciteras un joli poème à ta maman.
- f) Dans cette maison, on entend les poutres craquer.
- g) Demain, Hector enverra un mail à son parrain pour sa fête.
- h) Le garagiste répare la voiture.