

Prénom :
2020

Semaine du 18 mai

**Livret n°8
CE1A et CE1B**

Ce nouveau livret permet de t'exercer à la maison. Tu as plusieurs exercices à faire chaque jour. Bon courage !


Si tu ne peux pas imprimer le document à la maison, fais tous les exercices dans ton cahier du jour en indiquant la date, le numéro de l'exercice et le numéro de la question.

Il n'est pas nécessaire de recopier la consigne.



Lundi 18 mai 2020

Exercice 1 : Entoure en bleu 3 x 5 points et en vert 4 x 6 points

Si tu travailles sur ton cahier du jour, tu peux t'aider des carreaux en dessinant les points à chaque nœud.



Exercice 2 : Calcule les soustractions suivantes.

$251 - 40 =$	$624 - 302 =$
	

Exercice 3 : Classe les phrases en notant la lettre qui correspond dans le tableau.

Si tu travailles sur ton cahier du jour, tu peux refaire le tableau facilement et le compléter.



- a- Hier, il a fêté ses 7 ans.
- b- Je suis en classe de CE1.
- c- Avant, je ne savais ni lire, ni écrire.
- d- Aujourd'hui, je vais à la piscine.
- e- Plus tard, tu voyageras beaucoup.
- f- Demain, nous irons au cinéma.

Exercice 4 : Calcule (tu as 3 minutes pour réaliser le maximum)

Si tu travailles sur ton cahier du jour, tu peux préparer à l'avance les 30 opérations. Ensuite en 3 minutes tu copies seulement tes résultats au bon endroit.

CHRONOMATH 7



- | | | |
|----------------------|-----------------------|--------------------------|
| 1 $6 + 6 = \dots$ | 11 $70 - 10 = \dots$ | 21 $2 \times 2 = \dots$ |
| 2 $8 + 8 = \dots$ | 12 $7 + 8 = \dots$ | 22 $305 + 19 = \dots$ |
| 3 $9 + 9 = \dots$ | 13 $13 + 9 = \dots$ | 23 $225 + 25 = \dots$ |
| 4 $6 + 9 = \dots$ | 14 $500 + 21 = \dots$ | 24 $36 - 7 = \dots$ |
| 5 $60 + 15 = \dots$ | 15 $6 + 8 = \dots$ | 25 $4 \times 2 = \dots$ |
| 6 $11 + 11 = \dots$ | 16 $13 + 13 = \dots$ | 26 $2 \times 3 = \dots$ |
| 7 $20 + 40 = \dots$ | 17 $33 + 9 = \dots$ | 27 $3 \times 4 = \dots$ |
| 8 $70 + 26 = \dots$ | 18 $260 - 20 = \dots$ | 28 $6 \times 10 = \dots$ |
| 9 $91 + 7 = \dots$ | 19 $18 + 18 = \dots$ | 29 $905 - 6 = \dots$ |
| 10 $50 + 50 = \dots$ | 20 $55 + 33 = \dots$ | 30 $1000 - 100 = \dots$ |

SCORE :

CE1

Mardi 19 mai 2020

Exercice 1 : Lis attentivement le problème et réponds à la question.

A - Dans une classe de 25 élèves, le maître a distribué 4 cahiers par élève. Combien a-t-il distribué de cahiers au total ?

Opération: _____

Réponse: _____

B - La pâtissière a 10 gâteaux. Elle doit les ranger dans des boîtes. Dans chaque boîte, elle met 2 gâteaux. Combien de boîtes lui faut-il ?

Opération: _____

Réponse: _____

C - Rémi a 11 carnets de 10 timbres et 3 timbres. Combien Rémi a-t-il de timbres en tout ?

Opération: _____

Réponse: _____

D - Énoncé 4 : Sarah a acheté une télévision qui coûte 245 € et un lecteur DVD qui coûte 68€. Elle donne à la caissière 450€. Combien la caissière va-t-elle lui rendre ?

Opération: _____

Réponse: _____

Exercice 2 : Écris ses groupes nominaux au féminin / pluriel. (G8)

Le garçon violent : _____

L'excellent chanteur : _____

Le beau chien : _____

Exercice 3 : Apprendre la poésie « *Le confinement des enfants* » jusqu'à la fin.

Mercredi 20 mai 2020


Exercice 1 : Le jeu du potager se joue comme un jeu de bataille navale.

Si tu travailles sur une feuille blanche ou un cahier, tu peux refaire rapidement le quadrillage en deux exemplaires afin de jouer contre quelqu'un.

La guerre du potager ★


Date :
/ /

Mon prénom :



MON POTAGER

Place tes légumes dans ton potager
(Attention, 2 de chaque !) :




P

P

P


P



C

C


C



M

M

	A	B	C	D	E	F
1						
2						
3						
4						
5						
6						



LE POTAGER DE MON ADVERSAIRE

Son prénom :

	A	B	C	D	E	F
1						
2						
3						
4						
5						
6						

- **But du jeu** : manger tout le potager de ton adversaire en envoyant ta taupe dans son potager.

- Quand c'est ton tour, tu annonces la case que tu vides dans le potager de ton adversaire. L'adversaire te répond le résultat :

- « **Terre** » : ta taupe ne mange que de la terre. Colorie en noir la case dans la grille de ton adversaire pour te souvenir qu'il n'y a rien ici.

- « **Croqué** » : ta taupe a mangé un bout de légume ! Fais une croix sur la grille pour marquer qu'il y a un morceau de légume à cet endroit.

- « **Disparu** » : ta taupe a mangé tout le légume !

Sand
mimes LUCAS
et POMMIER

Exercice 2 :

A - **Recopie** ces phrases et remplace le mot souligné par son contraire.

Ce thé est vraiment trop chaud. →

Cette caisse est vraiment lourde. →

Arthur regarde devant lui. →

L'avion descend du ciel. →

Mon papa est très grand. →

B - **Recopie** et entoure les syllabes ajoutées pour faire les contraires.

Exemple : décoller.

- Imparfait
- Défaire
- Impossible
- Maladroit
- Décoiffer
- Immortel

En plus ...

1 Entoure les paires qui sont symétriques.

