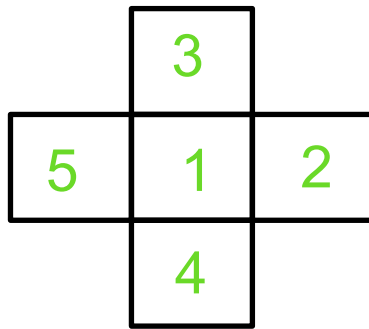


Rallye maths CP - Manche 2

Feuille de réponses

1

Regarde cette forme. Il faut mettre les chiffres de 1 à 5 dans les cases.
Il faut que la somme de la ligne et de la colonne soit la même. **Trouve une solution avec les chiffres de 1 à 5.**



2

Sonia, Antoine, Marie et Léo ont des yeux de couleur différente : noirs, bleus, verts ou gris.
Marie a les yeux gris et Antoine n'a pas les yeux verts.
L'une des filles a les yeux noirs.
Donne la couleur des yeux des 4 personnes.


Sonia a les yeux...noirs.....


Antoine a les yeux...bleus.....

Marie a les yeux...gris.....

Léo a les yeux...verts.....

3

Regarde cette construction de cubes : Les cubes sont tous posés sur une table, il n'y a pas de trous cachés.
Combien faut-il de cubes  pour refaire la même construction ?




Il faut11..... cubes

4

Regarde les balances :
Range du plus léger au plus lourd les trois aliments :

.....poire < banane < chou.....



ain ain	ein ein
-------------------	-------------------



Date : _____

1 Barre les intrus.

J'entends in/im
ain/ein

sapin

empreintes

poussin train

2 Ecris ces mots dans le tableau en les classant.

peinture - plainte - vilain - grain - plein - éteindre

ain	ein
plainte	peinture
vilain	plein
grain	éteindre

3 Complète ces phrases avec les mots proposés.

train
pain
mains
peinture
demain
poullain

Demain _____, je prends le train _____.

Il a de la peinture _____ sur les mains _____.

Il donne du pain _____ à son poussin _____.

4 Remets les mots de la phrase dans l'ordre et écris-là.

me la Mon copain tend main.

Mon copain me tend la main.