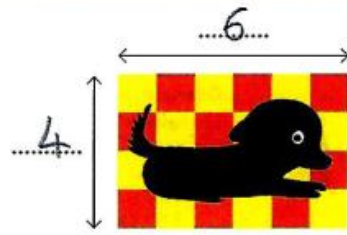


Découvrons

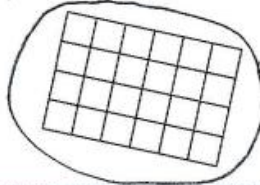

- 1 Mélissa veut connaître le nombre de carreaux du tapis.
Écris le nombre de carreaux sur chaque côté du tapis.



Le nombre de carreaux du tapis peut s'écrire avec une multiplication : 6×4 ou 4×6 .
On dit : 6 multiplié par 4 ou 4 multiplié par 6.



Entoure le rectangle qui permet de trouver le nombre de carreaux du tapis.



Compte ses carreaux et complète.

Le tapis possède ~~24~~ 24 carreaux.

$4 \times 6 = 6 \times 4 =$ ~~24~~ 24