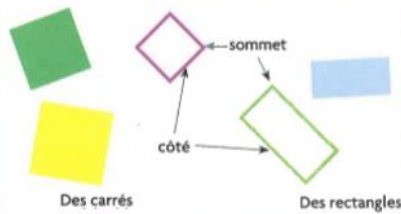


Dico-maths

A Carrés et rectangles



- Tous les carrés et les rectangles ont 4 côtés et 4 sommets.
- Dans un carré, tous les côtés ont la même longueur.
- Dans un rectangle, les côtés qui se font face ont la même longueur.

Dico-maths

B Reconnaître et nommer certains solides

Un cube



Un pavé droit

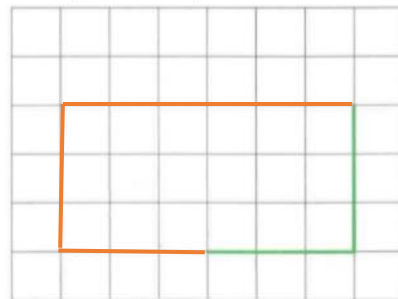


Je fais le bilan

1 Termine ce dessin pour obtenir un carré.



2 Termine ce dessin pour obtenir un rectangle. Il ne doit pas être un carré.

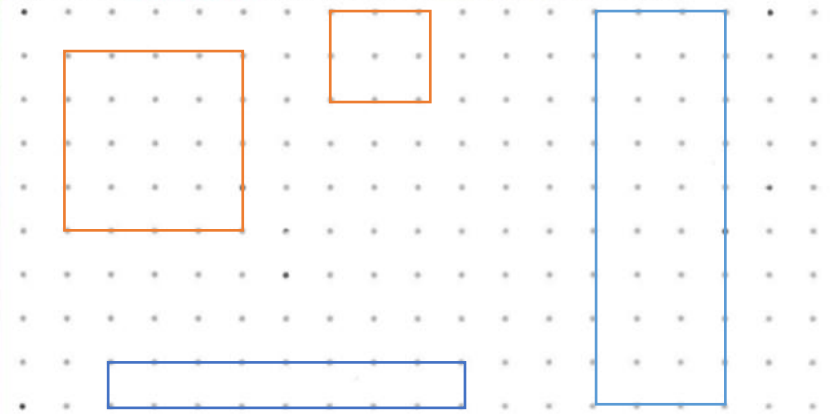


3 Pavé droit Rectangle Carré Boule Pyramide Cube

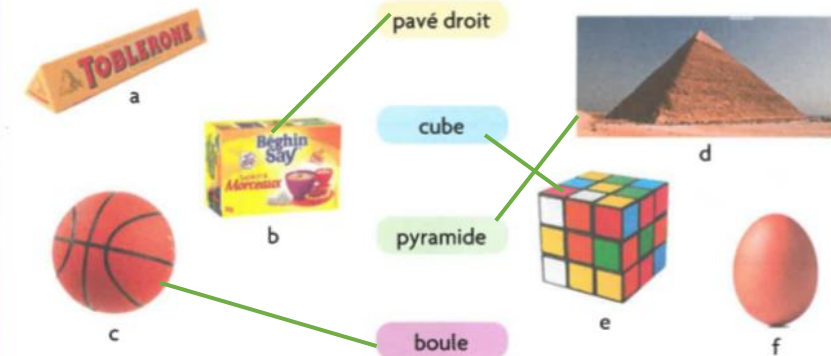
- a. Entoure le nom du premier solide que montre le maître ou la maîtresse.
b. Souligne le nom du deuxième solide que montre le maître ou la maîtresse.

Je consolide mes connaissances

1 Trace deux carrés rouges différents et deux rectangles bleus différents.



2 Relie chaque nom de solide à la photographie qui lui correspond.



3 Complète.

• Quel est le nom du solide photographié ?

C'est ... **Un pavé droit**

• Combien de faces a-t-il ? Il a **6** faces.

• Quelle est la forme de ses faces ? Ses faces sont des **rectangles**...

