

$++=$ Calcul mental : Déterminer combien de minutes il y a dans 1/2 h, 1/4 h, 3/4 h, deux heures, une heure et demie.

--	--	--	--	--

Je comprends



La vendeuse pose la devinette suivante à Kofi :
 « Ces 3 paquets contiennent en tout 18 nougats.
 Chaque paquet contient le même nombre de nougats.
 Combien de nougats y a-t-il dans chaque paquet ? »

Pour répondre, Kofi écrit une **multiplication à trou** :

$$3 \times \boxed{?} = 18$$

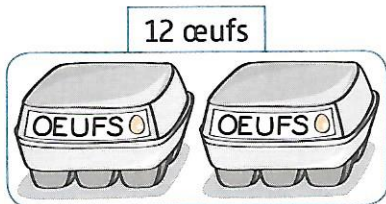
Il connaît la table de 3 :

$$3 \times \boxed{6} = 18$$

Il y a **6** nougats dans chaque paquet.


Je m'entraîne

1 Observe le dessin, puis complète la multiplication et la phrase.



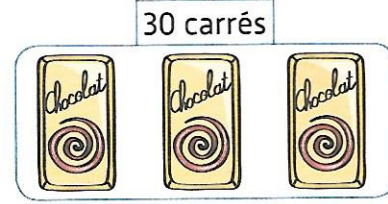
$$2 \times \underline{6} = 12$$

Il y a 6 œufs dans chaque boîte.



$$4 \times \underline{6} = 24$$

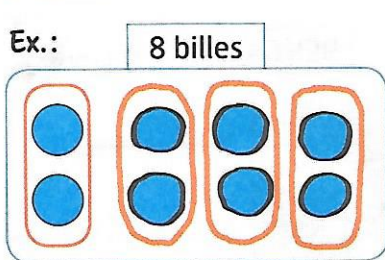
Il y a 6 billes dans chaque sachet.



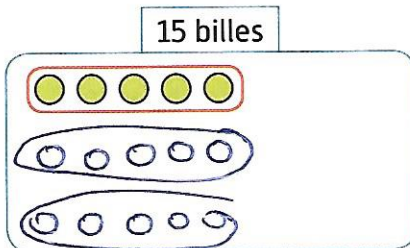
$$3 \times \underline{10} = 30$$

Il y a 10 carrés dans chaque tablette.

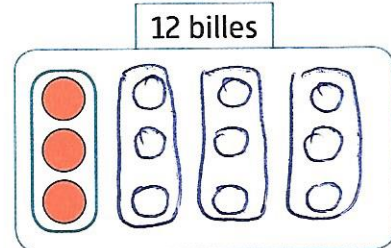
2 Dessine les paquets de billes manquants, puis complète la multiplication, comme dans l'exemple.



$$4 \times 2 = 8$$



$$\underline{3} \times 5 = 15$$



$$\underline{4} \times 3 = 12$$

3 Complète.

$$5 \times \underline{4} = 20$$

$$7 \times \underline{5} = 35$$

$$\underline{7} \times 2 = 14$$

$$\underline{0} \times 8 = 0$$

$$6 \times \underline{3} = 18$$

$$8 \times \underline{8} = 64$$

$$\underline{1} \times 5 = 5$$

$$\underline{4} \times 9 = 36$$

4 Complète. (Si besoin, tu peux chercher sur ton cahier d'essai.)

$$2 \times 4 \times \underline{7} = 56$$

$$3 \times \underline{3} \times 5 = 45$$

$$\underline{3} \times 4 \times 7 = 84$$