





<b>1</b>	Un fleuriste veut former 25 bouquets de 7 roses. Combien de roses lui faut-il ?																																								
	<table border="1" style="width: 100%; border-collapse: collapse;"> <tr><td style="width: 10px; height: 15px;"></td><td style="width: 10px; height: 15px;"></td><td style="width: 10px; height: 15px;"></td><td style="width: 10px; height: 15px;"></td><td style="width: 10px; height: 15px;"></td><td style="width: 10px; height: 15px;"></td><td style="width: 10px; height: 15px;"></td><td style="width: 10px; height: 15px;"></td><td style="width: 10px; height: 15px;"></td><td style="width: 10px; height: 15px;"></td></tr> <tr><td style="width: 10px; height: 15px;"></td><td style="width: 10px; height: 15px;"></td><td style="width: 10px; height: 15px;"></td><td style="width: 10px; height: 15px;"></td><td style="width: 10px; height: 15px;"></td><td style="width: 10px; height: 15px;"></td><td style="width: 10px; height: 15px;"></td><td style="width: 10px; height: 15px;"></td><td style="width: 10px; height: 15px;"></td><td style="width: 10px; height: 15px;"></td></tr> <tr><td style="width: 10px; height: 15px;"></td><td style="width: 10px; height: 15px;"></td><td style="width: 10px; height: 15px;"></td><td style="width: 10px; height: 15px;"></td><td style="width: 10px; height: 15px;"></td><td style="width: 10px; height: 15px;"></td><td style="width: 10px; height: 15px;"></td><td style="width: 10px; height: 15px;"></td><td style="width: 10px; height: 15px;"></td><td style="width: 10px; height: 15px;"></td></tr> <tr><td style="width: 10px; height: 15px;"></td><td style="width: 10px; height: 15px;"></td><td style="width: 10px; height: 15px;"></td><td style="width: 10px; height: 15px;"></td><td style="width: 10px; height: 15px;"></td><td style="width: 10px; height: 15px;"></td><td style="width: 10px; height: 15px;"></td><td style="width: 10px; height: 15px;"></td><td style="width: 10px; height: 15px;"></td><td style="width: 10px; height: 15px;"></td></tr> </table>																																								

<b>2</b>	Monsieur Chapuis paye avec un billet de 200€. Il a acheté une paire de baskets à 23€, un survêtement à 36€, un maillot à 15€ et une casquette à 7€. Combien d'argent doit-on lui rendre ?																																								
	<table border="1" style="width: 100%; border-collapse: collapse;"> <tr><td style="width: 10px; height: 15px;"></td><td style="width: 10px; height: 15px;"></td><td style="width: 10px; height: 15px;"></td><td style="width: 10px; height: 15px;"></td><td style="width: 10px; height: 15px;"></td><td style="width: 10px; height: 15px;"></td><td style="width: 10px; height: 15px;"></td><td style="width: 10px; height: 15px;"></td><td style="width: 10px; height: 15px;"></td><td style="width: 10px; height: 15px;"></td></tr> <tr><td style="width: 10px; height: 15px;"></td><td style="width: 10px; height: 15px;"></td><td style="width: 10px; height: 15px;"></td><td style="width: 10px; height: 15px;"></td><td style="width: 10px; height: 15px;"></td><td style="width: 10px; height: 15px;"></td><td style="width: 10px; height: 15px;"></td><td style="width: 10px; height: 15px;"></td><td style="width: 10px; height: 15px;"></td><td style="width: 10px; height: 15px;"></td></tr> <tr><td style="width: 10px; height: 15px;"></td><td style="width: 10px; height: 15px;"></td><td style="width: 10px; height: 15px;"></td><td style="width: 10px; height: 15px;"></td><td style="width: 10px; height: 15px;"></td><td style="width: 10px; height: 15px;"></td><td style="width: 10px; height: 15px;"></td><td style="width: 10px; height: 15px;"></td><td style="width: 10px; height: 15px;"></td><td style="width: 10px; height: 15px;"></td></tr> <tr><td style="width: 10px; height: 15px;"></td><td style="width: 10px; height: 15px;"></td><td style="width: 10px; height: 15px;"></td><td style="width: 10px; height: 15px;"></td><td style="width: 10px; height: 15px;"></td><td style="width: 10px; height: 15px;"></td><td style="width: 10px; height: 15px;"></td><td style="width: 10px; height: 15px;"></td><td style="width: 10px; height: 15px;"></td><td style="width: 10px; height: 15px;"></td></tr> </table>																																								

<b>3</b>	Un jardinier doit planter 237 arbustes en formant des rangées de 25 arbustes. Combien de rangées complètes peut-il planter ?																																								
	<table border="1" style="width: 100%; border-collapse: collapse;"> <tr><td style="width: 10px; height: 15px;"></td><td style="width: 10px; height: 15px;"></td><td style="width: 10px; height: 15px;"></td><td style="width: 10px; height: 15px;"></td><td style="width: 10px; height: 15px;"></td><td style="width: 10px; height: 15px;"></td><td style="width: 10px; height: 15px;"></td><td style="width: 10px; height: 15px;"></td><td style="width: 10px; height: 15px;"></td><td style="width: 10px; height: 15px;"></td></tr> <tr><td style="width: 10px; height: 15px;"></td><td style="width: 10px; height: 15px;"></td><td style="width: 10px; height: 15px;"></td><td style="width: 10px; height: 15px;"></td><td style="width: 10px; height: 15px;"></td><td style="width: 10px; height: 15px;"></td><td style="width: 10px; height: 15px;"></td><td style="width: 10px; height: 15px;"></td><td style="width: 10px; height: 15px;"></td><td style="width: 10px; height: 15px;"></td></tr> <tr><td style="width: 10px; height: 15px;"></td><td style="width: 10px; height: 15px;"></td><td style="width: 10px; height: 15px;"></td><td style="width: 10px; height: 15px;"></td><td style="width: 10px; height: 15px;"></td><td style="width: 10px; height: 15px;"></td><td style="width: 10px; height: 15px;"></td><td style="width: 10px; height: 15px;"></td><td style="width: 10px; height: 15px;"></td><td style="width: 10px; height: 15px;"></td></tr> <tr><td style="width: 10px; height: 15px;"></td><td style="width: 10px; height: 15px;"></td><td style="width: 10px; height: 15px;"></td><td style="width: 10px; height: 15px;"></td><td style="width: 10px; height: 15px;"></td><td style="width: 10px; height: 15px;"></td><td style="width: 10px; height: 15px;"></td><td style="width: 10px; height: 15px;"></td><td style="width: 10px; height: 15px;"></td><td style="width: 10px; height: 15px;"></td></tr> </table>																																								

<b>4</b>	L'école a acheté 275 paquets de 3 feutres. Combien de feutres cette école a-t-elle acheté ?																																								
	<table border="1" style="width: 100%; border-collapse: collapse;"> <tr><td style="width: 10px; height: 15px;"></td><td style="width: 10px; height: 15px;"></td><td style="width: 10px; height: 15px;"></td><td style="width: 10px; height: 15px;"></td><td style="width: 10px; height: 15px;"></td><td style="width: 10px; height: 15px;"></td><td style="width: 10px; height: 15px;"></td><td style="width: 10px; height: 15px;"></td><td style="width: 10px; height: 15px;"></td><td style="width: 10px; height: 15px;"></td></tr> <tr><td style="width: 10px; height: 15px;"></td><td style="width: 10px; height: 15px;"></td><td style="width: 10px; height: 15px;"></td><td style="width: 10px; height: 15px;"></td><td style="width: 10px; height: 15px;"></td><td style="width: 10px; height: 15px;"></td><td style="width: 10px; height: 15px;"></td><td style="width: 10px; height: 15px;"></td><td style="width: 10px; height: 15px;"></td><td style="width: 10px; height: 15px;"></td></tr> <tr><td style="width: 10px; height: 15px;"></td><td style="width: 10px; height: 15px;"></td><td style="width: 10px; height: 15px;"></td><td style="width: 10px; height: 15px;"></td><td style="width: 10px; height: 15px;"></td><td style="width: 10px; height: 15px;"></td><td style="width: 10px; height: 15px;"></td><td style="width: 10px; height: 15px;"></td><td style="width: 10px; height: 15px;"></td><td style="width: 10px; height: 15px;"></td></tr> <tr><td style="width: 10px; height: 15px;"></td><td style="width: 10px; height: 15px;"></td><td style="width: 10px; height: 15px;"></td><td style="width: 10px; height: 15px;"></td><td style="width: 10px; height: 15px;"></td><td style="width: 10px; height: 15px;"></td><td style="width: 10px; height: 15px;"></td><td style="width: 10px; height: 15px;"></td><td style="width: 10px; height: 15px;"></td><td style="width: 10px; height: 15px;"></td></tr> </table>																																								

3 étoiles : Une si l'opération ou le dessin sont adaptés, une si le résultat est juste, une si la phrase réponse est bien formulée  
 + 1 cœur –bonus si l'orthographe est correcte.