



### Sens des opérations

Représenter une situation.

Identifier l'opération.

Problèmes

Fiche n°

lundi mardi mercredi jeudi vendredi samedi dimanche




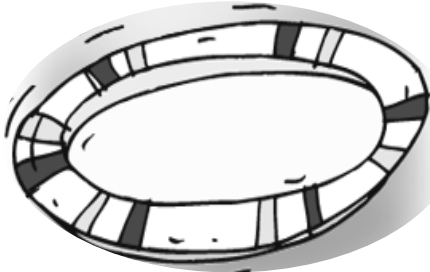
/ /

1

netti



J'entoure dans le texte ce que je vais dessiner, je complète le dessin, puis je réponds.



Dans une assiette, il y a **3 pommes**, dans l'autre il y a 4 poires.

♥ Combien de fruits y a-t-il en tout ?



♣ Il y a \_\_\_\_\_ fruits .

2




Mathys a **3 chats**, 2 chiens et 3 hamsters.

♥ Combien d'animaux a-t-il en tout ?



♣ Il a \_\_\_\_\_ animaux.

3



Dans la tirelire il y avait **6 €**. Lily a perdu une dent et la petite souris lui a déposé 4€ sous l'oreiller.

♥ Combien d'argent a-t-elle maintenant ?



♣ Lily a \_\_\_\_\_ €.