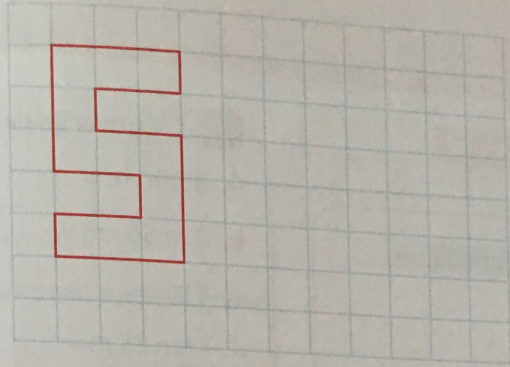


3 Trace une figure qui a la même aire que le modèle mais pas la même forme.



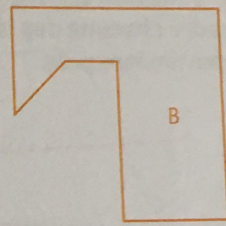
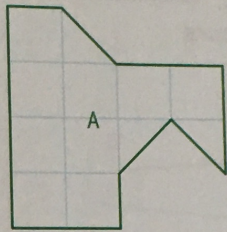
4 **PROBLÈME** Décalque et découpe la figure A (en autant de morceaux que tu veux) pour la poser sur la figure B.

Les figures A et B ont-elles la même aire ?

.....

.....

.....

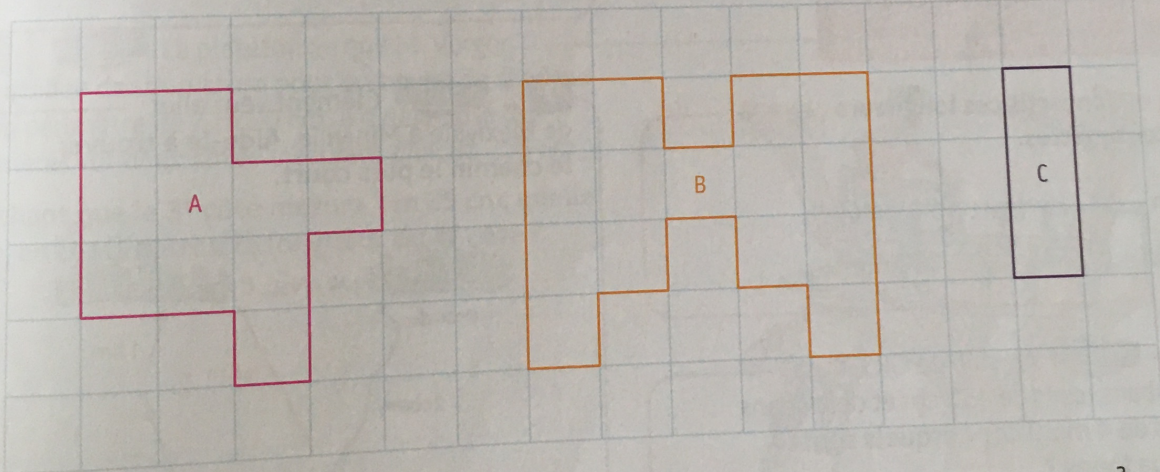


Mesurer des aires



Le quadrillage est fait de carrés d'un centimètre de côté.

5 Indique l'aire de chaque figure en cm^2 .



Aire de A : cm^2

Aire de B : cm^2

Aire de C : cm^2

6 Trace les carrés d'un centimètre de côté dans la figure pour indiquer la mesure de son aire.

Cette figure a une aire de cm^2 .

