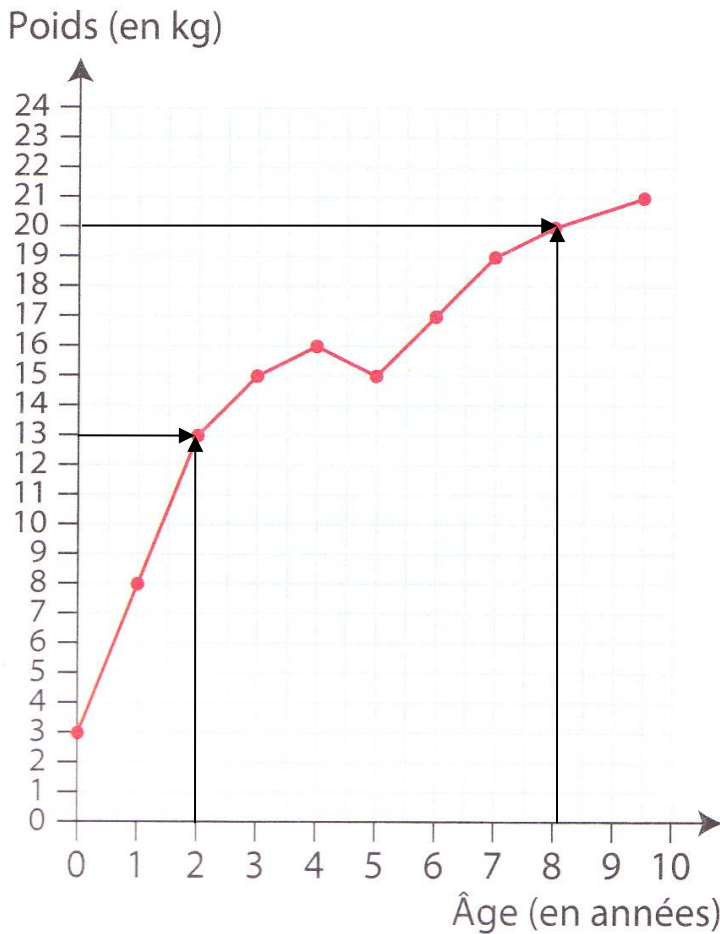


1. Voici le carnet de santé de Lou. A trois ans, elle pesait 15kg.



A – Quel était son poids :

A la naissance ? **3 kg**

A 2 ans ? **13 kg**

A 8 ans ? **20 kg**

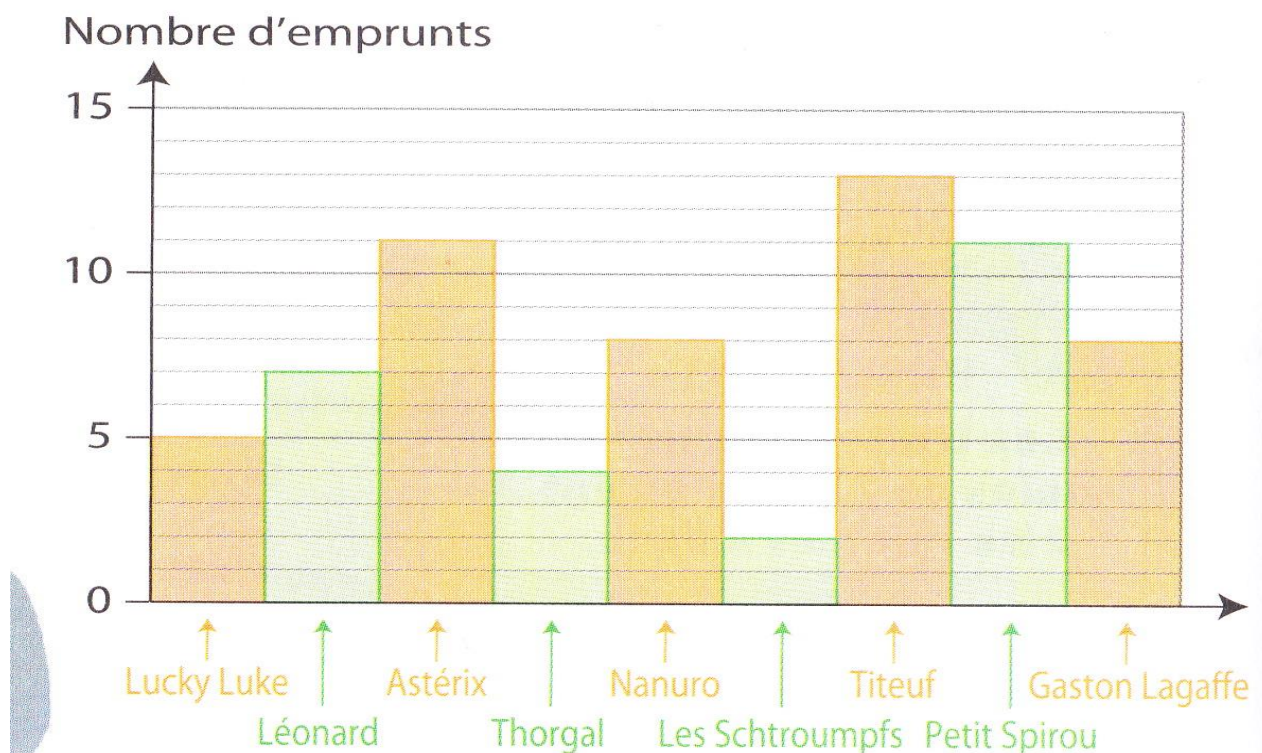
B – A quel âge pesait-elle :

8 kg ? **1 an**

17 kg ? **6 ans**

20 kg ? **8 ans**

2. La bibliothécaire de Dombasle a présenté, dans un graphique, le nombre de bandes dessinées que les enfants ont empruntées ce mois-ci :



Cinq élèves ont emprunté Lucky Luke. Combien d'élèves ont emprunté :

- Astérix : **11**
- Gaston Lagaffe : **8**
- Thorgal : **4**

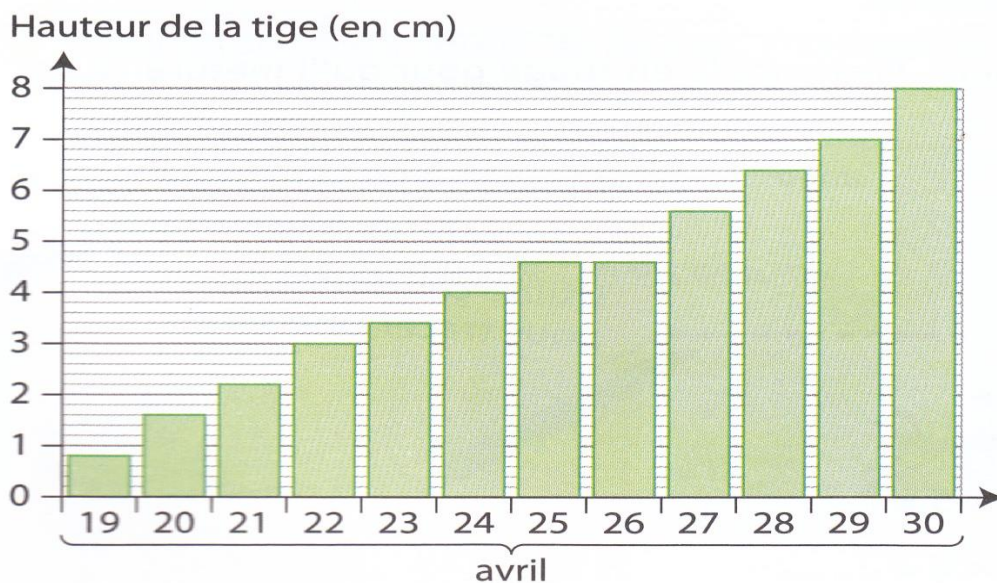
Quelles sont les trois BD les plus empruntées ? **Titeuf, Astérix et Petit Spirou**

Quelle BD est la moins empruntée ? **Les Schtroumpfs**

3. Dans la classe, nous avons semé des graines de haricots. Chaque soir, les élèves collent sur leur cahier de sciences une bandelette de la hauteur de la tige (afin de voir l'évolution).

Le 19 avril, la tige mesure 8 mm.

Le 20 avril, elle mesure 1 cm 6 mm ou 16 mm.



Quelle est la hauteur de la tige :

Le 21 avril ? **2 cm**

Le 22 avril ? **3 cm**

De combien de mm le haricot a-t-il grandi entre le 23 et le 24 avril ? **0.6 cm ou 6 mm**

Quel jour la tige n'a-t-elle pas grandi ? **le 25 avril**