

**1. Lis le tableau avant de répondre aux questions**

Voici le relevé de la taille de Rémi lorsqu'il était bébé :

Age	naissance	3 mois	6 mois	9 mois	1 an	15 mois	18 mois
Taille en cm	49	59	65	69	75	78	83

- 1) Quelle est la taille de Rémi à 6 mois? **65 cm**
- 2) Quelle est la taille de Rémi à 18 mois? **83 cm**
- 3) Que représente le nombre 59? **la taille de Rémi à 3 mois**
- 4) Que représente le nombre 75? **la taille de Rémi à 1 an**

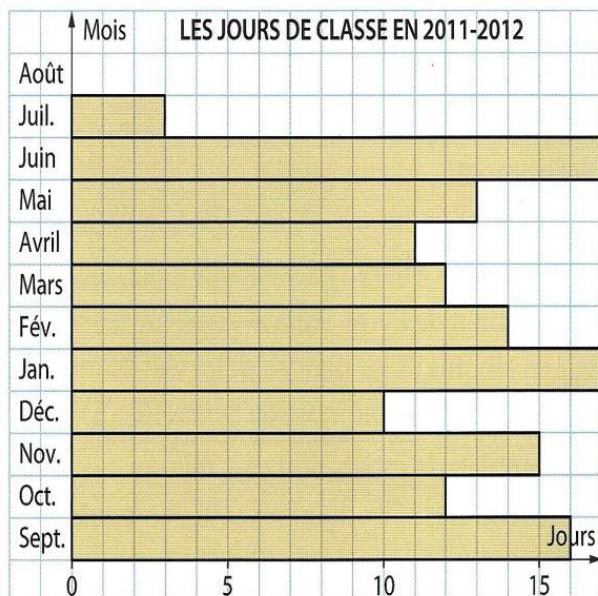
**2. Lis le tableau avant de répondre aux questions**

Voici le tableau énergétique que l'on peut lire sur un paquet de biscuits :

Valeur nutritionnelle	Pour 100 g	Par biscuit (20 g)
Valeur énergétique	470 kcal	94 kcal
Protéines	6,0 g	1,2 g
Glucides	71 g	14 g
Lipides	17 g	3,4 g
Fibres alimentaires	3,33 g	0,66 g
Sodium	0,25 g	0,05 g

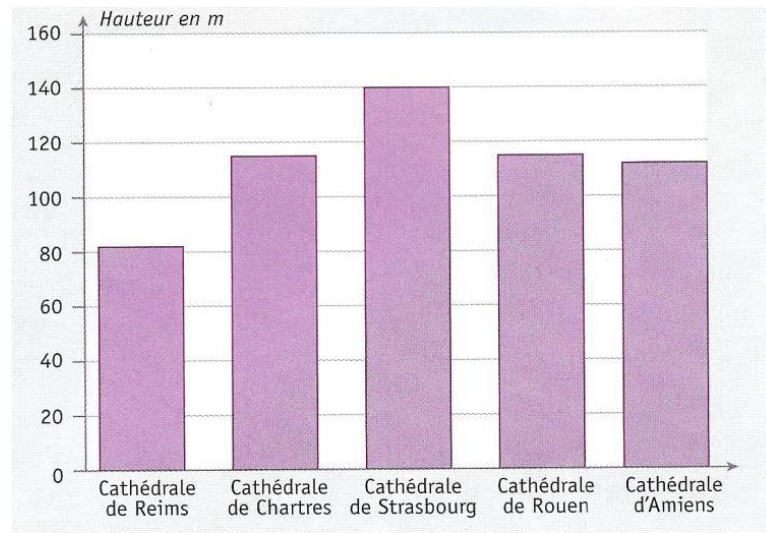
- 1) Combien y a-t-il de glucides dans 100 g de produit? **71 g**
- 2) Combien y a-t-il de protéines dans un biscuit? **1,2 g**
- 3) Combien y a-t-il de kcal dans un biscuit? **94 kcal**
- 4) Que représente le nombre 3,4 présent dans le tableau? **g de Lipides par biscuit**
- 5) Que représente le nombre 3,33 présent dans le tableau? **g de fibres alimentaires pour 100 g**

**3. Observe le graphique avant de répondre aux questions**



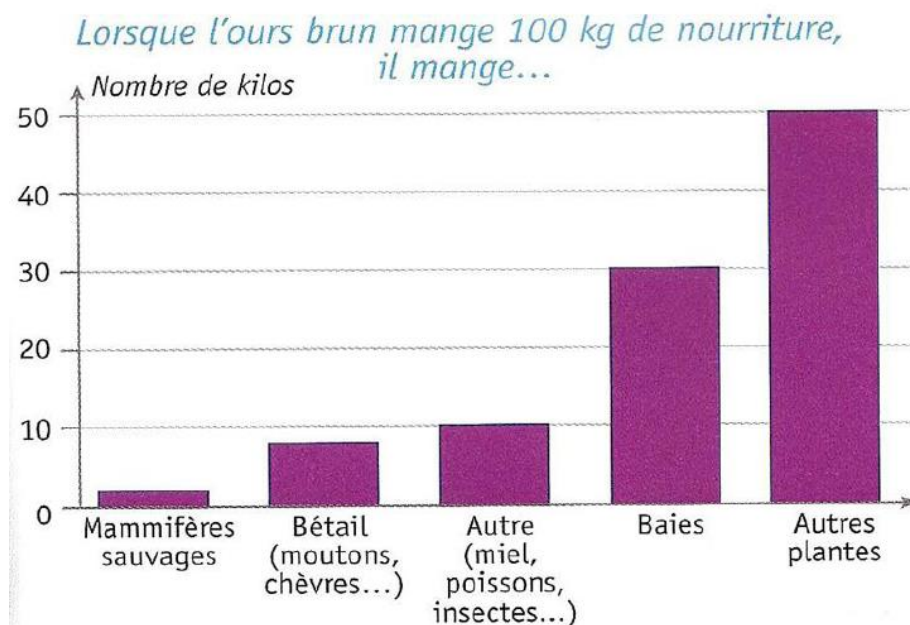
- a) Quels mois comptent le plus de jours de classe ? **juin et janvier**
- b) Quel mois compte le moins de jours de classe ? **août**
- c) Quels mois comptent 12 jours de classe ? **mars et octobre**
- d) Quel est le nombre total de jours de classe pour cette année scolaire. **140**

#### 4. Utilise le graphique pour répondre aux questions



- a) Quelle est la cathédrale la plus haute ? **Strasbourg**  
b) Quelle est la cathédrale la moins haute ? **Reims**  
c) Quelle hauteur fait la cathédrale de Strasbourg ? **140 m**  
d) Quelles cathédrales mesurent plus de 100 m mais moins de 120 m ?  
**Chartres, Rouen et Amiens.**

#### 5. Complète les phrases avec « plus » ou « moins »



- a) L'ours brun mange **plus** de baies que de mammifères.  
b) Les plantes, c'est ce que l'ours brun mange le **plus**.  
c) L'ours brun chasse **plus** le bétail que les mammifères sauvages.  
d) L'ours brun mange **moins** de bétail que de plantes.