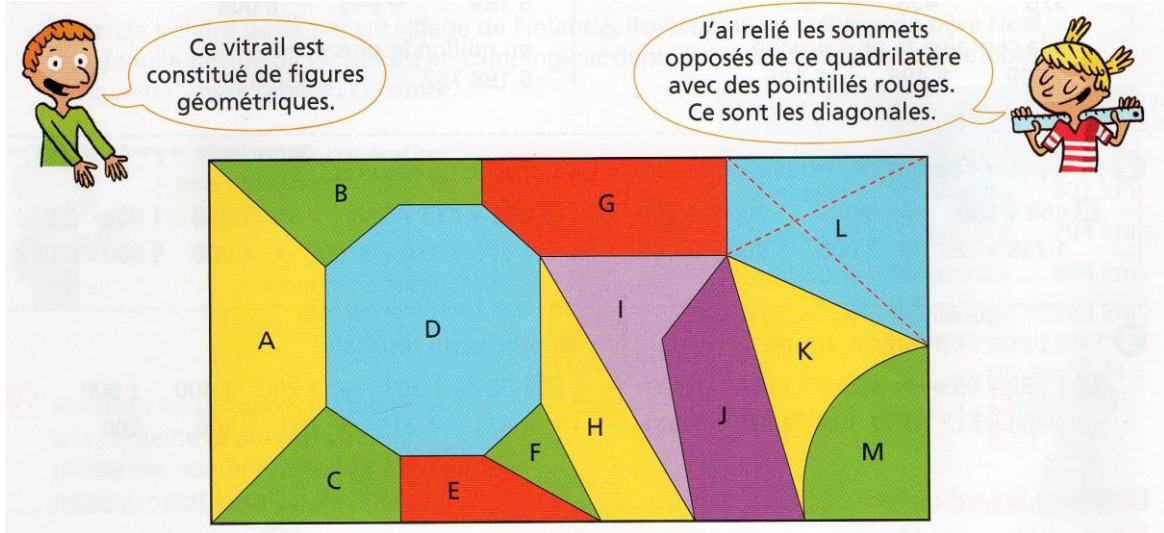


Espace et géométrie : Les polygones
Reconnaître, nommer et décrire les polygones

Fiche d'exercices n° 4
Leçon 3

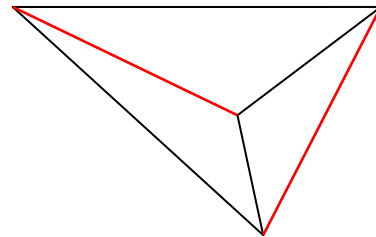
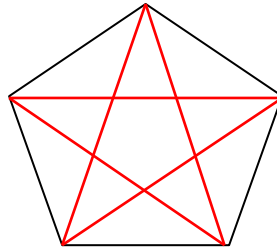
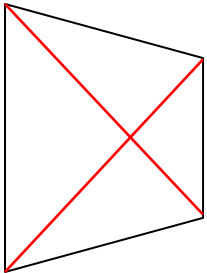


Réponds aux questions suivantes :

- a. Quelles figures de ce vitrail ne sont pas des polygones ? **M - K.**
- b. Quelle figure est un triangle ? **F** Quelle figure est un octogone ? **D**

Quelles figures sont des quadrilatères ? **A - C - E - H - I - J - L** Des pentagones ? **B - G**

- c. Trace les diagonales de ces trois polygones.



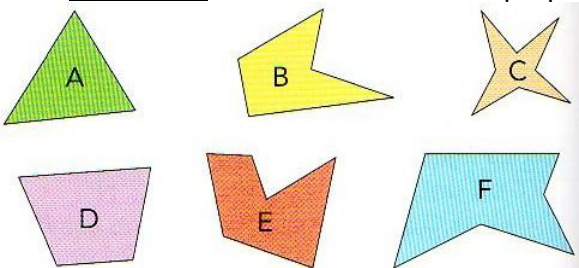
- d. Dans ce vitrail, quel polygone n'a pas de diagonale ? **F**
- e. Deux polygones ont une diagonale à l'extérieur de leur contour. Lesquels ? **B et I**



Exercice 1 : Colorie en bleu les figures ci-dessous qui sont des polygones.



Exercice 2 : Donne le nom de chaque polygone.



A. triangle B. pentagone

C. octogone D. quadrilatère

E. hexagone F. hexagone