

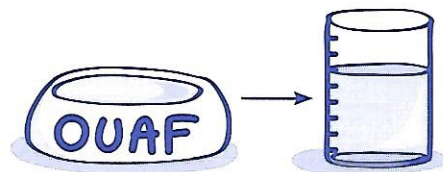
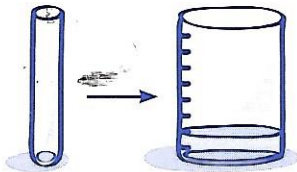
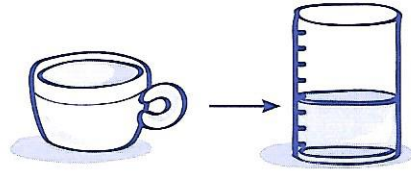
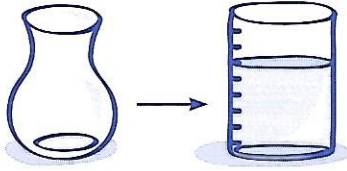
52* Les contenances

Nom :

Date :

1 On a versé le contenu de chaque récipient dans des verres doseurs identiques.



Observe les dessins.



- Relie les deux récipients qui ont la même contenance.
- Entoure le récipient qui a la plus petite contenance.

2 Tous ces récipients ont la même hauteur, mais ils n'ont pas la même contenance !

À côté de chaque récipient, tu peux voir le nombre de verres d'eau qu'il faut verser pour les remplir à ras bord.



- Entoure en bleu le récipient qui a la plus grande contenance.
- Entoure en vert le récipient qui a la plus petite contenance.

3 Entoure les récipients dont la contenance est plus grande que 1 L.

