

## Utiliser le calendrier

**5**  Utilise le calendrier pour faire l'exercice.


- a** Entoure en bleu tous les mercredis du mois de mars.
- b** Les vacances d'hiver ont lieu du 24 février au 11 mars inclus. Colorie en jaune tous les jours de vacances.
- c** Alexis part en vacances le 9 avril pour une semaine entière chez ses grands-parents. Colorie en violet tous les jours qu'Alexis passe chez eux.
- d** Célia va à la piscine tous les lundis du mois de mai. Elle prépare ses affaires la veille. Entoure en vert tous les jours où elle prépare son sac.
- e** Colorie en orange les jours de classe du mois de juin.

## Connaître les relations entre heure et minute

- 6** Louna met 11 minutes pour décorer un cadre de photos. Elle a 5 cadres à décorer. **Louna aura-t-elle fini en moins d'une heure ?**
- 7** Tom a joué 2 matchs de 35 minutes chacun. Léo, lui, a joué 1 match de 60 minutes. **Qui a joué exactement 1 heure ?**
- 8** Rose fait un gâteau. La recette annonce 1 heure de temps de préparation, alors Rose décide de ne pas faire la décoration, qui prend 20 minutes. **Combien de temps de préparation prendra donc ce gâteau ?**
- 9** Baptiste a fait une sieste de 1 heure. La sieste de Romain a duré 15 minutes de moins que celle de Baptiste. **Combien de temps a duré la sieste de Romain ?**
- 10** Quentin veut manger à midi. Il commence à préparer le repas à 11 h. Il met :

- 20 minutes pour préparer une entrée ;
- 45 minutes pour cuisiner le plat ;
- 25 minutes pour faire un gâteau ;
- 10 minutes pour mettre la table.

**Pourra-t-il manger à midi ? Justifie ta réponse.**




## Lire l'heure


**11** Vrai ou faux ?




**a** 11 h et demie



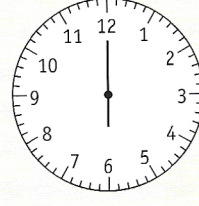
**b** 10 h



**c** 8 h 30



**d** Midi



**e** Minuit