

(2)


Oui,
est 34,
ce que
+ 4, ça
it 34.




viné ?

1.

3 Écris la somme d'argent que possède chaque enfant.



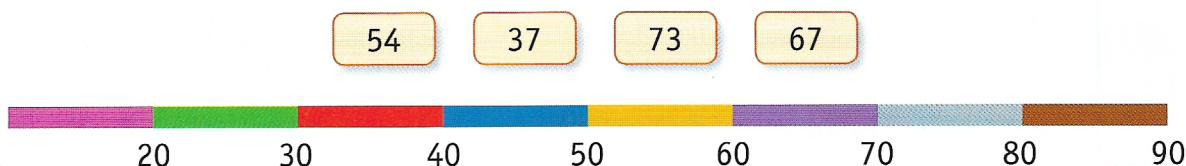
Lucas



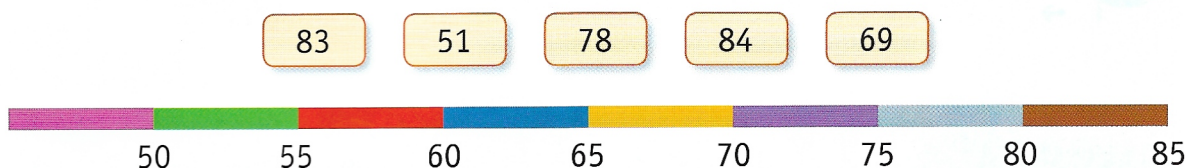
Rémi

Repérer et placer les nombres jusqu'à 99

4 Retrouve la place de chaque nombre sur la file numérique graduée.
Écris sur ton cahier le nombre et la couleur de son emplacement.



5 Même exercice.



Comparer, ranger, encadrer les nombres jusqu'à 99

6 Range ces nombres dans l'ordre croissant.

a $57 - 67 - 54 - 89 - 73 - 96$

b $72 - 29 - 97 - 79 - 27 - 92$

7 Complète avec les signes $<$ ou $>$.

a $70 \dots 67$

b $76 \dots 67$

c $89 \dots 90$

d $58 \dots 61$

8 Encadre par le nombre précédent et le nombre suivant.


a $\dots < 28 < \dots$

b $\dots < 79 < \dots$

c $\dots < 60 < \dots$

d $\dots < 80 < \dots$

9 Recopie les nombres compris entre 46 et 71.



10 Chloé a un cahier de 96 pages. Celui de Mathis a 64 pages.
Qui a le cahier avec le plus de pages ?

11 Enzo a 85 coquillages, Jade en a 91 et Baptiste 73.
Qui a le plus de coquillages ?

