



- 5 Quentin veut vendre des petits objets dans un vide-grenier. Il a 3 petites voitures et il a préparé des lots pour ses billes et ses toupies.

Combien de petits objets va-t-il emporter ?




- 6 a Indique la somme d'argent que possède chaque classe.



- b Quelle classe a le plus d'argent ?
Le moins d'argent ?

- c Les 4 classes veulent faire une sortie.
Quelle classe peut faire la sortie montagne ?
Quelles classes peuvent faire la sortie musée ?



- 7 Retrouve les lettres qui composent le nom de cet animal d'Afrique à l'aide de ce code.

963	936	693	639	396	369	751	715	175
C	O	N	R	T	P	Y	E	É

1^{re}, 3^e et 6^e lettres : 30 + 6 + 900
 2^e lettre : 300 + 90 + 6
 4^e lettre : 3 + 60 + 900
 5^e lettre : 7c 5d 1u
 7^e lettre : (9 × 10) + (6 × 100) + 3
 Nom de l'animal :

1	2	3	4	5	6	7
---	---	---	---	---	---	---

