
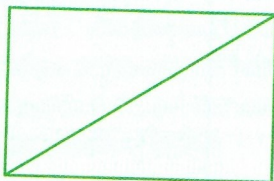
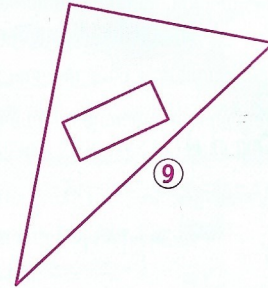
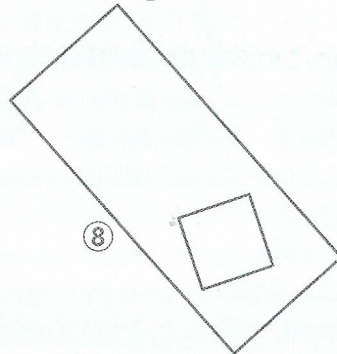
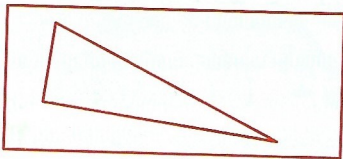
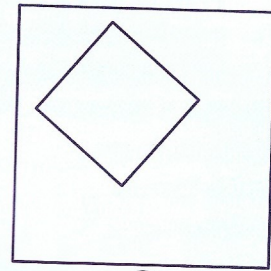

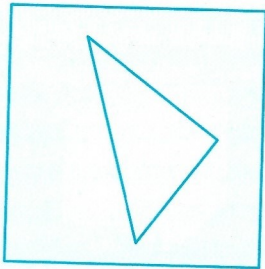
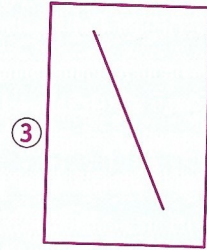
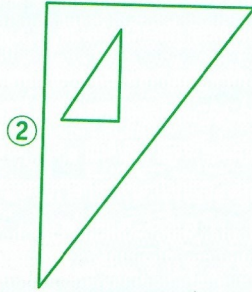
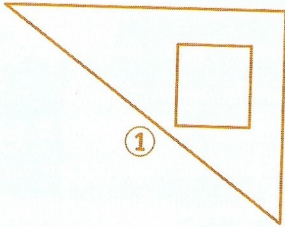


Révisions

Décrire un carré, un rectangle et un triangle rectangle

1 Associe chaque figure à sa description.



- a Un carré dans un carré.
- b Un rectangle dans un triangle rectangle.
- c Un carré à l'intérieur d'un triangle rectangle.
- d Un rectangle composé de deux triangles rectangles.
- e Un triangle rectangle à l'intérieur d'un carré.
- f Un triangle rectangle dans un rectangle.
- g Un rectangle dans un rectangle.
- h Un carré à l'intérieur d'un rectangle.
- i Un triangle rectangle dans un triangle rectangle.
- j Un segment à l'intérieur d'un rectangle.
- k Une droite à l'intérieur d'un rectangle.

2
a
mê
Je s

Re
3
a
b
s'ap
c
droi
d

Per
4

Rec
5
1

Sam
Lilou
Tim
Julia