

DATE :

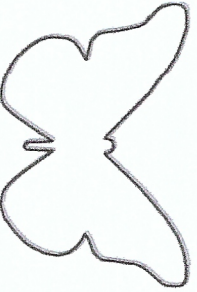
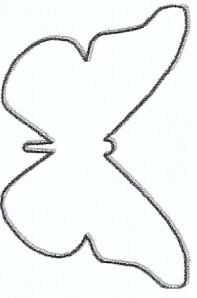
Comprendre qu'un dessin est symétrique par rapport à un axe si la taille, la distance à l'axe, le sens, la couleur et la forme sont similaires.

Colorie OUI si le dessin est symétrique par rapport à l'axe en pointillés. Colorie NON si ce n'est pas le cas.

A

OUI

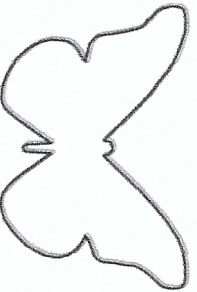
NON



B

OUI



NON



C

OUI

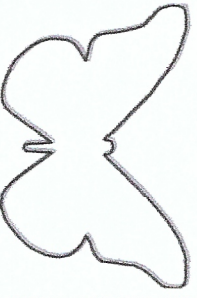
NON



D

OUI

NON



E

OUI

NON



F

OUI


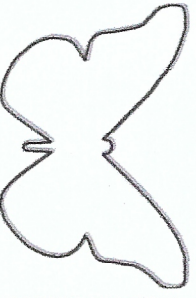
NON



G

OUI

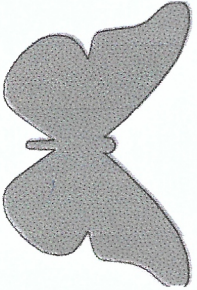
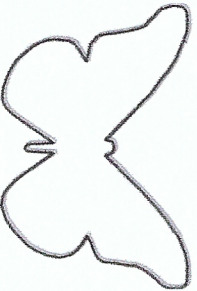
NON



H

OUI

NON



I

OUI

NON

