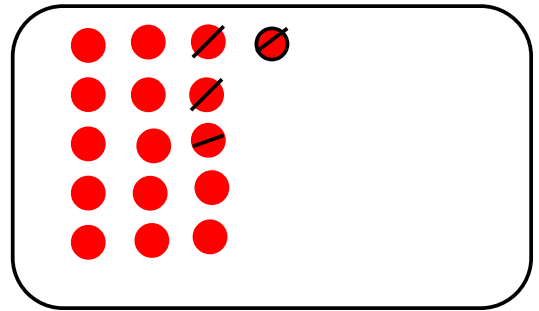


Résoudre des problèmes

1 – Jules a 16 bonbons. Il en mange 4.
Combien de bonbons lui reste-t-il ? 12

Il reste **12** bonbons à Jules.

L'opération : **$16 - 4 = 12$**

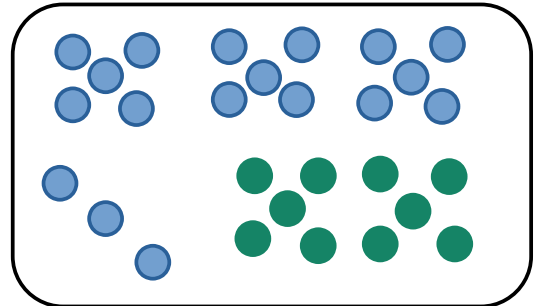


2- Jules a 18 billes. Alice lui en donne 10.

Combien de billes a Jules ? 28

Jules a **28** billes.

L'opération : **$18 + 10 = 28$**



3 – Livia et Ali ont chacun des euros dans leur tirelire. Livia et Ali mettent tout leur argent ensemble dans la même tirelire. Ensemble ils ont 34 euros. Livia sait que 6 euros sont à elle.

Combien d'euros sont à Ali ?

28 euros sont à Ali.

Opération : **$34 - 6 = 28$**

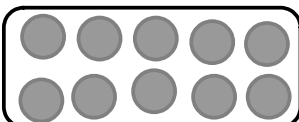
$$\begin{aligned} 10 + 10 + 10 + 4 &= 34 \\ 6 &= 4 + 2 \\ 34 - 4 &= 30 \quad 30 - 2 = 28 \end{aligned}$$

4 – Rihana et Fatima-Zahra ont préparé 56 macarons.
Elles les rangent dans des boîtes de 10.

Combien de boîtes rempliront-elles ? 5

Combien de macarons resteront-ils ? 6

56 c'est **5** dizaines et **6** unités.



56 c'est
 $10 + 10 + 10 + 10 + 10 + 6$
5 dizaines 6 unités
5 boîtes de 10 et 6 macarons.