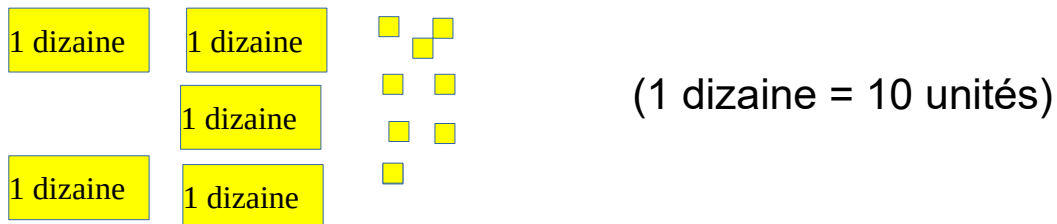


Quand tu sais combien il y a de dizaines et d'unités dans un nombre, c'est facile de l'écrire en chiffres.



1 dizaine    1 dizaine    (1 dizaine = 10 unités)

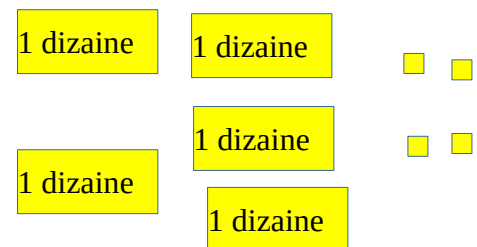
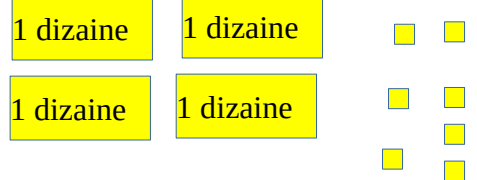
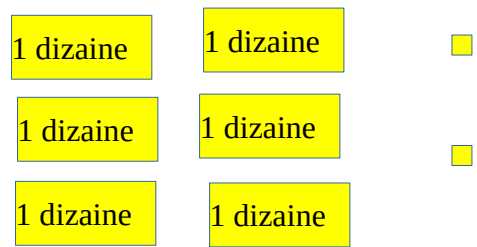
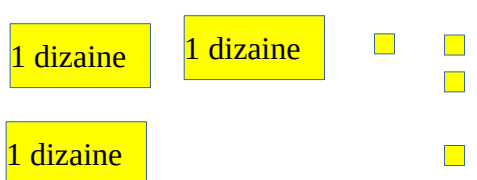
1 dizaine    1 dizaine

1 dizaine    1 dizaine

5 dizaines et 8 unités c'est 58

$$50 + 8 = 58$$

Ecris le nombre qui correspond aux décompositions en dizaines et unités.

 <p>5 dizaines et 4 unités c'est ....</p> <p><math>50 + 4 =</math></p>	 <p>4 dizaines et 7 unités c'est ....</p> <p><math>40 + 7 = \dots\dots</math></p>
 <p>.... dizaines et ..... unités c'est ....</p>	 <p>.... dizaines et ..... unités c'est .....</p>

2) 5 dizaines et 3 unités c'est .....  $50 + 3 = \dots\dots$

4 dizaines et 1 unité c'est .....  $40 + 1 = \dots\dots$

3) Ecris du plus petit au plus grand :

47 – 32 – 57 – 61- 16 – 43 – 23