





Décomposer des nombres en dizaines unités -31 mars

1 –Décompose en dizaines et unités

32 29 17 43

- Calcule : $4 + 10 + 12 + 7 + 3 + 8 + 10$

32	43
 <p>3 dizaines 2 unités</p> <p>$32 = 10 + 10 + 10 + 2$</p>	 <p>4 dizaines 3 unités</p> <p>$43 = 10 + 10 + 10 + 10 + 3$</p>

29	17
 <p>2 dizaines 9 unités</p> <p>$29 = 10 + 10 + 9$</p>	 <p>1 dizaine 7 unités</p> <p>$17 = 10 + 7$</p>

2 - Calcule : $4 + 10 + 12 + 7 + 3 + 8 + 10$ (tu cherches les 10)

$$4 + 10 + 10 + 2 + 10 + 8 + 10$$

$$4 + 10 + 10 + 10 + 10 + 10$$

4 unités 5 dizaines