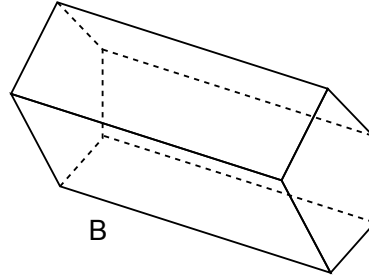
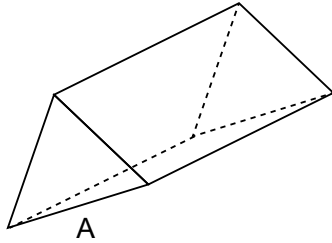


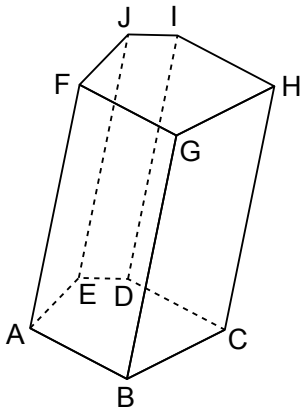
Nom : _____ Date : _____

1 a. Repasse les arêtes en rouge et marque les sommets en bleu.

b. Colorie une base en vert et une face latérale en jaune.



2 Observe ce solide, puis complète le texte.



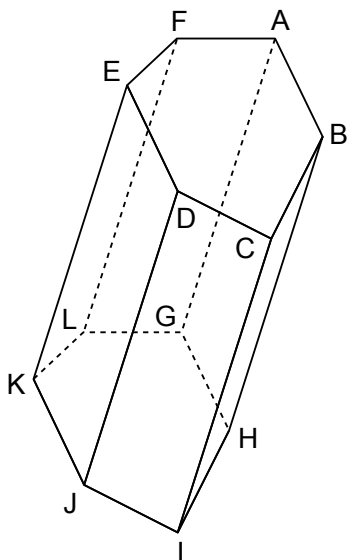
Ce solide a faces, arêtes et sommets.

Ses bases sont de forme et se nomment et

Ses faces latérales sont de forme et se nomment,,, et

Il s'agit d'un solide car toutes ses faces sont des

3 Décris ce solide.



.....

.....

.....

.....

.....

.....

.....

.....

.....

.....