

Grandeurs et mesures

Lire l'heure





Exercice 1 : Complète le tableau

Heure du matin	9 : 00	6 : 45			7 : 20	
Heure de l'après-midi			23 : 30	16 : 00		14 : 15

Exercice 2 : Colorie de la même couleur les horaires identiques

Midi et quart	6 h et demie	20 min après 3h	15 min avant 11h	40min après 18h
18 : 30	10 : 45	12 : 15	18 : 40	15 : 20

Exercice 3 : Écris l'heure qu'il est en regardant les horloges

				
Heure du matin				
Heure de l'après-midi				

Rappel :

- L'aiguille rouge indique les heures (c'est la plus petite aiguille)
- L'aiguille bleue indique les minutes (c'est la plus grande aiguille)

La monnaie

Exercice 4 : Indique le prix pour chaque objet



Lorsqu'il y a écrit euro cent sur les pièces ce sont des centimes.

