



J'en sais déjà beaucoup

Découvrir

a La table de 6. Complète le tableau ci-dessous.

Ce que je sais

$$\begin{aligned} 2 \times 6 &= 6 \times 2 = ___ \\ 3 \times 6 &= 6 \times 3 = ___ \\ 4 \times 6 &= 6 \times 4 = ___ \\ 5 \times 6 &= 6 \times 5 = ___ \\ 6 \times 6 &= ___ \end{aligned}$$

Ce qu'il faut découvrir



Dans une boîte, il y a 6 portions de fromage.

■ Avec 8 boîtes, combien de portions a-t-on?

■ Avec une boîte en moins?

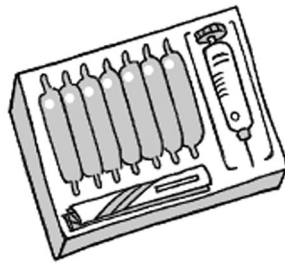
■ Avec une boîte en plus?

b La table de 7. Complète le tableau ci-dessous.

Ce que je sais

$$\begin{aligned} 2 \times 7 &= 7 \times 2 = ___ \\ 3 \times 7 &= 7 \times 3 = ___ \\ 4 \times 7 &= 7 \times 4 = ___ \\ 5 \times 7 &= 7 \times 5 = ___ \\ 6 \times 7 &= 7 \times 6 = ___ \\ 7 \times 7 &= ___ \end{aligned}$$

Ce qu'il faut découvrir



■ On doit faire une piqûre à Éric chaque jour pendant 8 semaines. Combien cela fait-il de piqûres? _____


■ Si, au bout de ces 8 semaines, le médecin lui prescrit une nouvelle série de 7 piqûres, combien de jours aura duré le traitement? _____

c La table de 8. Complète le tableau ci-dessous.

Ce que je sais

$$\begin{aligned} 2 \times 8 &= 8 \times 2 = ___ \\ 3 \times 8 &= 8 \times 3 = ___ \\ 4 \times 8 &= 8 \times 4 = ___ \\ 5 \times 8 &= 8 \times 5 = ___ \\ 6 \times 8 &= 8 \times 6 = ___ \\ 7 \times 8 &= 8 \times 7 = ___ \\ 8 \times 8 &= ___ \end{aligned}$$

Ce qu'il faut découvrir

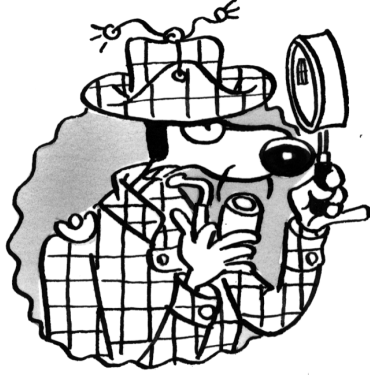


Cette pieuvre a huit pattes et sur chaque patte, 9 ventouses.

Quel est le nombre total de ventouses sur son corps?



1 L'énigme des nombres croisés. Complète les deux grilles.



—	×	4	=	12
×	■	+	■	=
—	-	—	=	—
=	■	=	■	×
18	=	6	×	—

6	×	—	=	24
×	■	+	■	=
—	-	1	=	—
=	■	=	■	×
30	=	—	×	—

2 Les symboles. Trouve la valeur des symboles, déduis-en les produits.

Aide : Tous les symboles correspondent à des résultats de la table de 7.

Complète...	sachant que...	donc
— × 7 = ▽	▽ + 1 = 50	▽ = —
— × — = ∞	∞ + 9 = 72	∞ = —
— × — = ◆	◆ + 5 = 40	◆ = —
— × — = ⊕	⊕ + 2 = 30	⊕ = —
— × — = ⇔	⇔ + 4 = 60	⇔ = —

3 Le loto des multiplications.

Voici la carte de Julien :

			30	40		65	72	84
6	15	28		48		64		
	18		32		54	66	75	

Et voilà le tirage dans l'ordre :

5 × 6	6 × 9	9 × 4
3 × 5	6 × 3	9 × 5
6 × 8	9 × 9	7 × 10
9 × 8	2 × 4	7 × 9

celle d'Alizée :

8		28	39		56		70	
	18		36	45		63		81
9		21			50		77	80

a. Aide Julien et Alizée à entourer, sur leur carte, les numéros dans l'ordre du tirage.

b. Celui qui a entouré tous les numéros d'une même ligne a gagné.

C'est donc _____ qui a gagné avec les numéros :

_____.