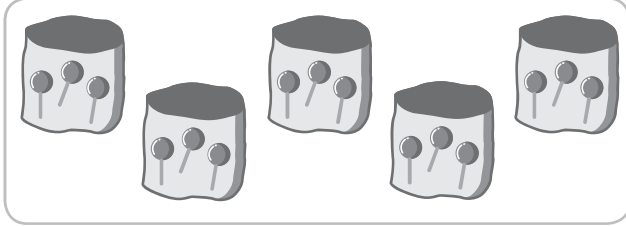
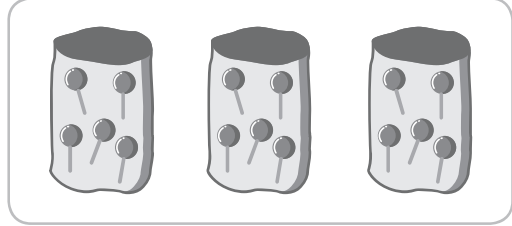


1



Ewen



Nina

Complète.

Ewen a paquets de sucettes.


Ewen a en tout sucettes

Nina a paquets de sucettes.

Nina a en tout sucettes.


2

Écris les deux affichages numériques possibles.




..... :

..... :




..... :

..... :



..... :

..... :



..... :

..... :

3

Complète la carte d'identité du pavé droit.



Le pavé droit

Famille : polyèdre

Nombre de faces :

Nombre d'arêtes :

Nombre de sommets :

4

Écris le double de chaque nombre.

7	8	11	12
↓	↓	↓	↓
...

5

Écris la moitié de chaque nombre.

8	16	20	30
↓	↓	↓	↓
...

6

Yvan a 9 voitures. Ana en a deux fois plus. Combien de voitures Ana a-t-elle ?

Ta réponse :

Ton calcul :

7

Farid a 9 motos, Carla en a deux de plus. Combien de motos Carla a-t-elle ?

Ta réponse :

Ton calcul :