

- 1 Complète le tableau en utilisant ta calculatrice.

À l'écran	Opération effectuée	Résultat
173		193
248		218
145		445
403		393

- 2 Lisa a 4 pièces de 5 € et 3 pièces de 2 €. Dessine les pièces de Lisa.



Quelle somme a-t-elle ?

- 3 Enzo mesure 148 cm. Il mesure 10 cm de plus que Clara. Quelle est la taille de Clara ?

La taille de Clara est

Ton calcul :

- 4 Mouna mesure 134 cm. Elle mesure 10 cm de moins que Leïla. Quelle est la taille de Leïla ?

La taille de Leïla est

Ton calcul :

- 5 Complète la figure L pour qu'elle soit un agrandissement de la figure **modèle**. Utilise ta règle et ton équerre.

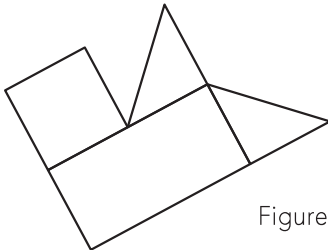


Figure **modèle**

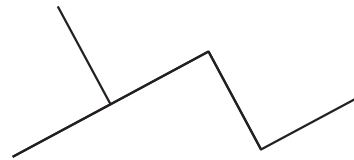




Figure L

- 6 Relie chaque dessin au texte qui convient.



6 paquets de 3 étoiles

3 paquets de 6 étoiles

1 paquet de 6 étoiles et 1 paquet de 3 étoiles

- 7 Calcule le double de chaque nombre.

Le double de 4, c'est

Le double de 9, c'est

Le double de 40, c'est

Le double de 90, c'est