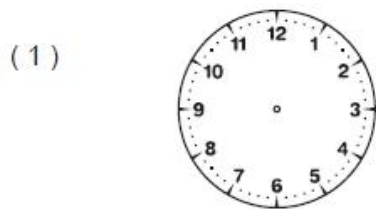
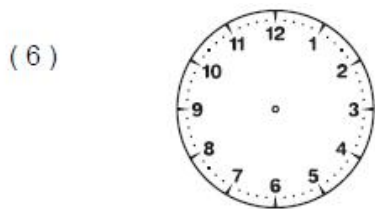


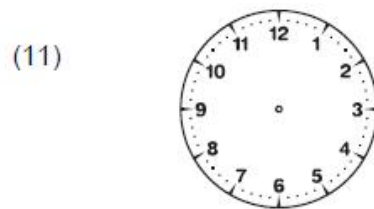
Trace les aiguilles des horloges (l'aiguille des heures en rouge, celle des minutes en bleu).



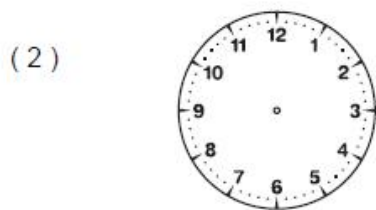
Il est midi



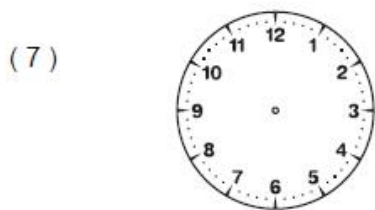
Il est sept heures



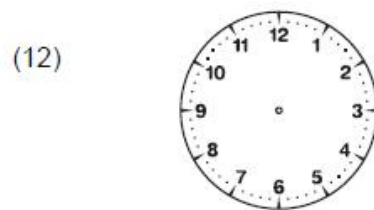
Il est quatre heures



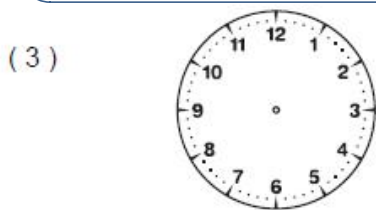
Il est deux heures



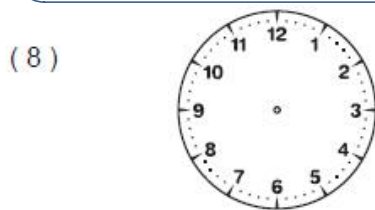
Il est dix-huit heures



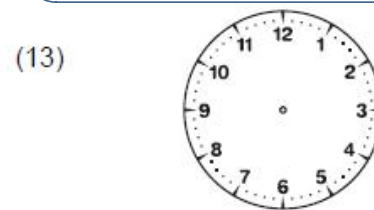
Il est une heure



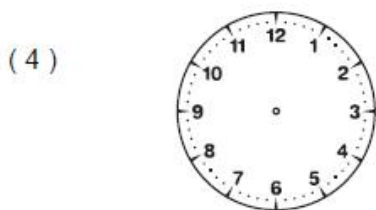
Il est treize heures



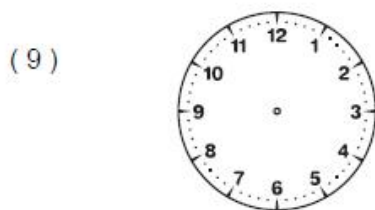
Il est vingt-trois heures



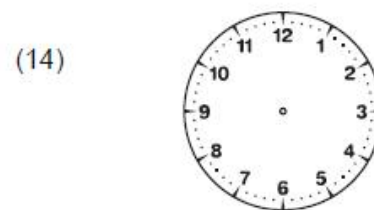
Il est dix heures



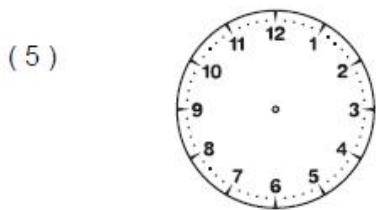
Il est vingt-et-une heures



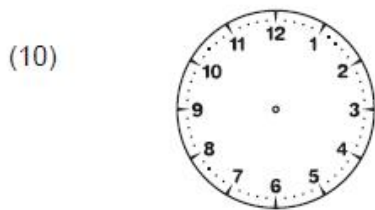
Il est quatre heures



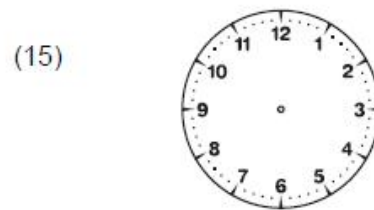
Il est dix-neuf heures




Il est trois heures



Il est dix-sept heures



Il est cinq heures



Tu as fait moins de 3 erreurs sur les horloges.

Ton travail est soigné.

Écris l'heure qu'il est, comme dans l'exemple. Attention : c'est le matin !

(1)

Il est midi

(2)



Il est _____

(3)



Il est _____

(4)



Il est _____

(5)



Il est _____

(6)



Il est _____

(7)



Il est _____

(8)



Il est _____

(9)



Il est _____

(10)



Il est _____

(11)



Il est _____

(12)




Il est _____

(13)




Il est _____

(14)




Il est _____

(15)



Il est _____


☐ Tu as fait moins de 3 erreurs de lecture de l'heure.

☐ Ton écriture est soignée.

☐ Tu as fait moins de 3 erreurs d'orthographe.