

**N8**

# Les nombres de 0 à 1000

## écriture – ordre – suite - comparaison

1 Ecris en chiffres les nombres dictés

--	--	--	--	--	--	--	--

2 Dans le nombre 348 :

Quel est le chiffre des dizaines : .....

Quel est le chiffre des centaines : .....

Quel est le nombre de dizaines : .....

Ecris ce nombre en lettres : .....

3 Colorie la bonne réponse.

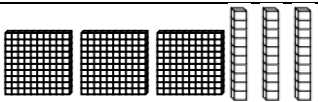
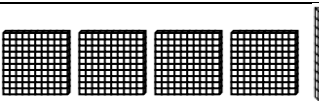


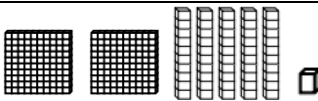
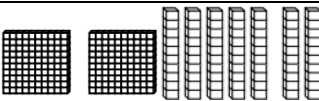

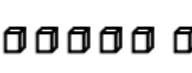
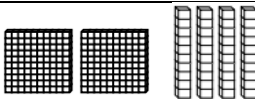
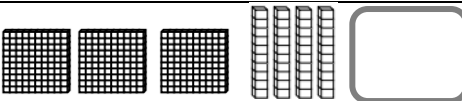
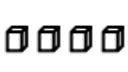

deux-cent-quatre-vingt-treize	283	213	293
quatre-cent-soixante-dix	470	410	460
huit-cent-vingt-quatre	826	824	804
neuf-cent-soixante-quatre	964	974	904
six-cent-quarante-neuf	549	649	749
cinq-cent-cinquante	750	554	550

4 Range les nombres dans l'ordre décroissant (du plus grand au plus petit).

214 - 631 - 107 - 496 - 84 - 120 - 813

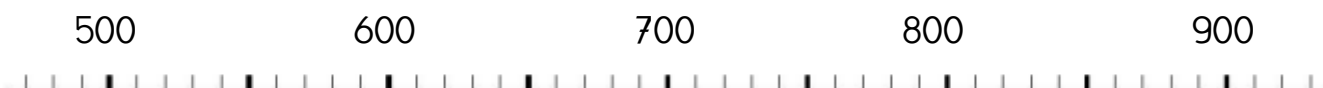
--	--	--	--	--	--	--

## 5 Complète comme dans l'exemple.

 <div>634</div>	6c 3d 4u	 <div></div>	.....
			
 <div></div>	.....	 <div></div>	.....
			
 <div></div>	.....	 <div></div>	.....
			

## 6 Relie les nombres sur la droite.

520 - 580 - 690 - 710 - 820 - 850 - 920



## 7 Complète le tableau.

nombre avant	nombre	nombre après
	486	
523		
	799	
		790
819		

## 8 Devinette.

J'ai le même chiffre des centaines que cent soixante-dix.

J'ai le même chiffre des dizaines que huit cent quatre-vingts.

J'ai le même chiffre des unités que soixante-dix.

Je suis