





















Construction du nombre 10

A chaque pomme, son panier :

- 1) Compte les pommes et les paniers dans le premier tableau.
- 2) Il doit y avoir le même nombre de pomme que de panier dans les autres tableaux sauf que j'ai fait des erreurs. Je me suis trompée et je n'en n'ai pas mis assez. Souviens toi du nombre de paniers puis ajoute la quantité de pommes qui manque. Il doit y avoir le même nombre à chaque fois.

1	2	3	4	5	6	7	8	9	10
									
									

1

2

3

4

5


6

7

8

9

10



1

2

3

4

5


6

7

8

9

10



1

2

3

4

5


6

7

8

9

10



1

2

3

4

5



6

7

8

9

10



1

2

3

4

5

6

7

8

9

10

