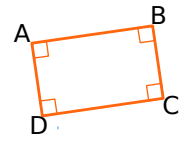


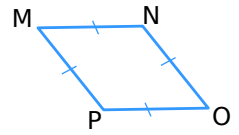
Nom et prénom : Date :

1 Observe les figures puis indique la nature des quadrilatères en justifiant tes réponses.

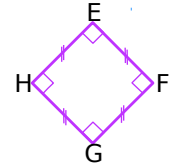
a. Le quadrilatère ABCD est car



b. Le quadrilatère MNOP est car



c. Le quadrilatère EFGH est car



2 Observe la figure puis réponds aux questions ci-dessous.

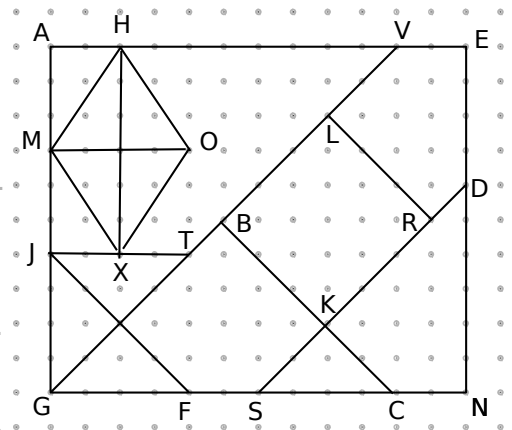
a. Nomme le carré tracé sur la figure :

b. Nomme le rectangle tracé sur la figure :


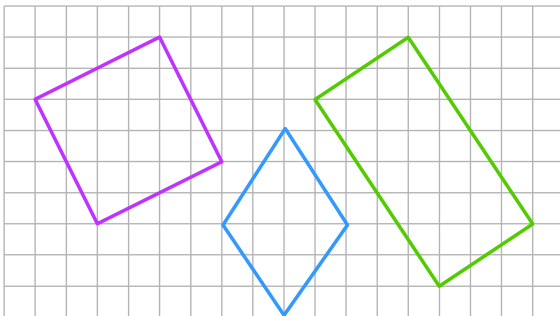
c. Nomme le losange tracé sur la figure :

d. Complète un autre rectangle sur la figure et nomme-le :

e. Complète un autre carré sur la figure et nomme-le :



3 Reproduis les figures tracées sur le quadrillage ci-dessous.



4 Dessine une figure à main levée, puis trace avec tes instruments, les figures décrites ci-dessous :

a. Un losange dont les côtés mesurent 2,5 cm et l'une de ses diagonales 4 cm.

b. Un rectangle de longueur 4,5 cm et de largeur 3 cm.

c. Un carré de côté 3,5 cm.