








**SEMAINE 23 : Reconnaître  
combien de fois un nombre  
est contenu dans un autre.**



SÉRIE  
1



6 dans 60 ?

3 dans 9 ?

1 dans 9 ?

3 dans 21 ?

10 dans 100 ?

6 dans 54 ?

9 dans 36 ?

8 dans 16 ?

5 dans 10 ?

7 dans 28 ?

8 dans 56 ?

9 dans 90 ?

Combien de fois 6 dans 36 ?

Combien de fois 3 dans 12 ?

Combien de fois 10 dans 40 ?

Combien de fois 9 dans 27 ?

Combien de fois 7 dans 14 ?

Combien de fois 3 dans 18 ?

Combien de fois 7 dans 56 ?

Combien de fois 6 dans 42 ?

Combien de fois 8 dans 40 ?

Combien de fois 5 dans 45 ?

Combien de fois 4 dans 36 ?