


Numération : Recherche lignes graduées



1 - Sur chaque ligne, marque par un trait au crayon un repère qui correspond approximativement au nombre 38.

Il ne s'agit pas de le placer exactement, mais de trouver à peu près où il peut être placé.

Il faut trouver sa place approximative sur chacune des lignes.

Tu dois expliquer, à l'oral, pourquoi tu l'as placé à cet endroit.


2 - Place le nombre 682, si c'est possible.

3 - Place le nombre 3 025, si c'est possible.

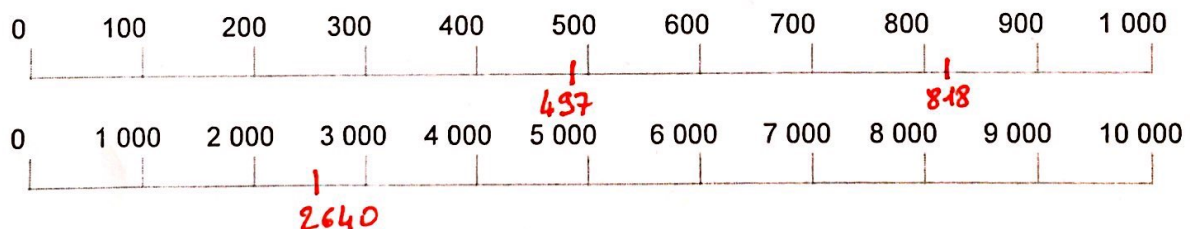
Nom : Prénom : CE2 Date :

Numération : Exercices lignes graduées


1. Sur cette ligne, place approximativement les nombres 35, 58 et 83.



2. Sur ces deux lignes, place approximativement les nombres 497, 818 et 2 640 si c'est possible.



3. Écris trois nombres pouvant être placés approximativement à l'endroit marqué par les flèches A, B, C et D.



4. Écris trois nombres pouvant être placés approximativement à l'endroit marqué par les flèches A, B, C et D.

