

Objectif : Je sais lire les heures et les minutes.

1. Écris les heures du matin et de l'après-midi pour chaque horloge.




Matin : 4 h 5 min

Après-midi : 16 h 5 min



Matin : 7 h 15 min

Après-midi : 19 h 15 min




Matin : 11 h 25 min

Après-midi : 23 h 25 min



Matin : 8 h 10 min

Après-midi : 20 h 10 min




Matin : 11 h 30 min

Après-midi : 23 h 30 min




Matin : 2 h 40 min

Après-midi : 12 h 40 min



Matin : 5 h 55 min


Après-midi : 17 h 55 min



Matin : 9 h 50 min

Après-midi : 21 h 50 min


2. Place les aiguilles selon les heures indiquées.



Il est 2 h 05 min.



Il est 8 h 20 min.




Il est 11 h 10 min.




Il est 9 h 50 min.




Il est 14 h 25 min.



Il est 22 h 30 min.



Il est 21 h 10 min.



Il est 18 h 45 min.