








Le son [wa] 3

1 Pour chaque dessin, coche la case si tu entends le son.

					
oi [wa] 3					
ou [ɔ] 					
ou [u] 					

2 Entoure les lettres qui font le son [wa] 3 .

doigt ronde miroir voisin violon


3 Sépare les mots par un trait, puis recopie-les.

voiture miroir poisson droit mouchoir

.....

.....

4 Complète chaque mot avec la syllabe qui convient.



vo voi vou

une le



loi tio toi

une é le










non noi nou

une sette

Le son [wa] 3

1 Pour chaque dessin, coche la case si tu entends le son.

					
oi	<input checked="" type="checkbox"/> [wa] 3	<input type="checkbox"/>	<input checked="" type="checkbox"/>	<input type="checkbox"/>	<input checked="" type="checkbox"/>
ou	<input type="checkbox"/> [ɔ] 5 	<input checked="" type="checkbox"/>	<input type="checkbox"/>	<input type="checkbox"/>	<input checked="" type="checkbox"/>
ou	<input type="checkbox"/> [u] 	<input type="checkbox"/>	<input type="checkbox"/>	<input checked="" type="checkbox"/>	<input type="checkbox"/>


2 Entoure les lettres qui font le son [wa] 3 .

doigt ronde miroir voisin violon

3 Sépare les mots par un trait, puis recopie-les.

voiture | miroir | poisson | droite | mouchoir
 voiture - miroir - poisson - droite
 mouchoir

4 Complète chaque mot avec la syllabe qui convient.



vo voi vou

une voile



loi tio toi

une étoile



non noi nou

une noisette

Calcul mental

- Dictée de nombres ($60 \leq n \leq 79$)
- Additions mentales ($7 + n, 8 + n, 9 + n$)

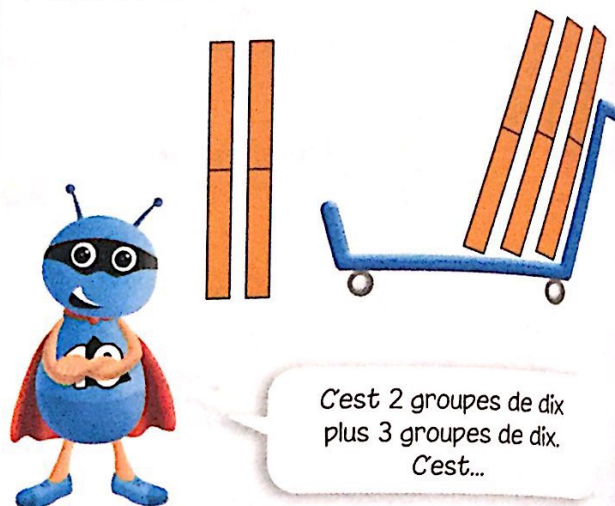


vingt + trente =

L'écureuil renonce à compter.



Picbille calcule.

**Imagine** les groupes de dix et **écris** la réponse en chiffres.

vingt + vingt =

quarante + vingt =

dix + quarante =

trente + dix =


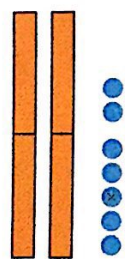
vingt + dix =

quarante + trente =

soixante + dix =

cinquante + vingt =

trente + trente =

Picbille calcule
vingt-sept + trente. $27 + 30 = \dots\dots\dots$ **Imagine** les dizaines et les unités. $14 + 20 = \dots\dots\dots$ $32 + 10 = \dots\dots\dots$ $28 + 40 = \dots\dots\dots$ $13 + 30 = \dots\dots\dots$ $25 + 30 = \dots\dots\dots$ $39 + 40 = \dots\dots\dots$ **Écris** la table
des moitiés.

$$\begin{array}{c} 2 \\ \diagup \quad \diagdown \\ 1 + 1 \end{array}$$

$$\begin{array}{c} \dots\dots\dots \\ \diagup \quad \diagdown \\ \dots\dots + \dots\dots \end{array}$$

$$\begin{array}{c} \dots\dots\dots \\ \diagup \quad \diagdown \\ \dots\dots + \dots\dots \end{array}$$

$$\begin{array}{c} \dots\dots\dots \\ \diagup \quad \diagdown \\ \dots\dots + \dots\dots \end{array}$$

$$\begin{array}{c} \dots\dots\dots \\ \diagup \quad \diagdown \\ \dots\dots + \dots\dots \end{array}$$

Calcul mental

- Dictée de nombres ($60 \leq n \leq 79$)
- Additions mentales ($7 + n, 8 + n, 9 + n$)

66

69

72

78

70

vingt + trente = 50

L'écureuil renonce à compter.




Picbille calcule.



Imagine les groupes de dix et écris la réponse en chiffres.

vingt + vingt = 40	quarante + vingt = 60	dix + quarante = 50
trente + dix = 40	vingt + dix = 30	quarante + trente = 70
soixante + dix = 70	cinquante + vingt = 70	trente + trente = 60

Picbille calcule
vingt-sept + trente.



$27 + 30 = 57$

Imagine les dizaines et les unités.

$14 + 20 = 34$
 $32 + 10 = 42$
 $28 + 40 = 68$
 $13 + 30 = 43$
 $25 + 30 = 55$
 $39 + 40 = 79$

Écris la table
des moitiés.

2
1 + 1

4
2 + 2

6
3 + 3

8
4 + 4

10
5 + 5

Madame Bata a 15 images et elle veut les partager entre Louis et Amina.
Dessine la part de chaque enfant. **Combien** d'images chacun aura-t-il ?




Handwriting practice lines consisting of three horizontal lines with a dashed midline.

B


Trouve 3 solutions.

Je veux 11 jetons.



Handwriting practice lines for the first problem.


Je veux 13 jetons.



Handwriting practice lines for the second problem.

C

Colorie 69 cases.



D

