



Le son [s]

1 Barre l'intrus.



2 Entoure les lettres qui font le son [s] .

sapin

cinéma

dix

garçon

TASSE

3 Colorie de la même couleur les mots et les syllabes qui les composent.

garçon

dessin

ciseaux

sorcier

ci

gar

sor

sin

des


cier

seaux

çon

4 Entoure le mot qui correspond au dessin.

6



dix

ours

sous

tasse

douce

si

souris

soupe

sauter

ours

six


souci

pouce

tache

sourd



2 Entoure les lettres qui font le son [s] .

Sapin Cinéma dix garçon TASSE

3 Colorie de la même couleur les mots et les syllabes qui les composent.

garçon

dessin

ciseaux

sorcier

ci

gar

sor

sin

des

cier

seaux

çon

4 Entoure le mot qui correspond au dessin.



dix

ours

sous

tasse

douce

si

souris

soupe

sauter

ours


six

souci

pouce

tache

sourd



Le plus grand est le sapin

2

B Trouve un moyen pour comparer les longueurs de ces traits et complète.

A _____

Le plus long est l

Le trait l

A Observe l'image et complète.

(3)



A



B



C

Le sapin le plus grand est le sapin

B Trouve un moyen pour comparer les longueurs d'...

A

A

... long est le


Le trait le plus long est le

E

A B C D
Le sapin le plus grand est le sapin

4

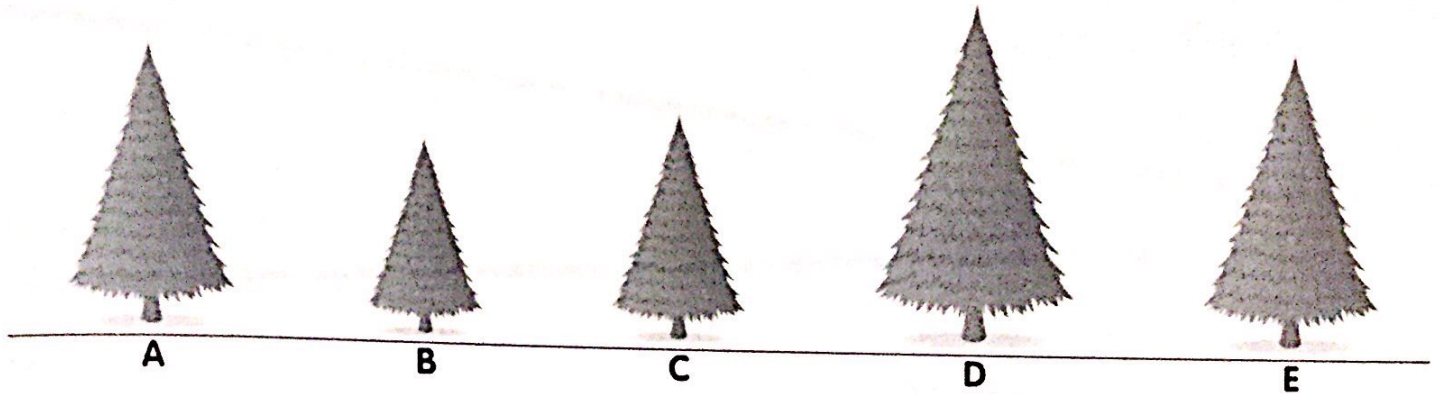
B Trouve un moyen pour comparer les longueurs de ces traits et



Le plus long est le


Comparaison de longueurs (2)

A Observe l'image et complète.




Le sapin le plus grand est le sapin

B Trouve un moyen pour comparer les longueurs de ces traits et complète.



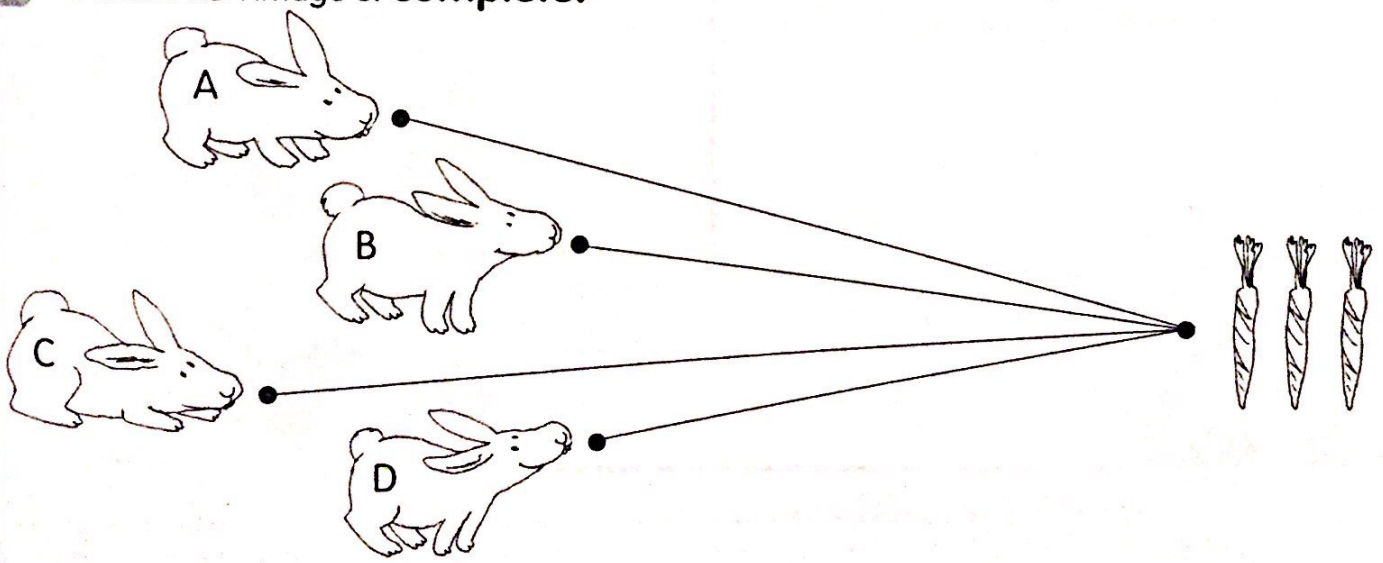
Le trait le plus long est le

Le trait le plus long est le



Le trait le plus long est le

C Observe l'image et complète.



Le lapin a effectué le trajet le plus long jusqu'au champ de carottes.

Le lapin et le lapin ont effectué un trajet de même longueur.

A Observe l'image et complète.




A



B



C



D



E

Le sapin le plus grand est le sapin D

B Trouve un moyen pour comparer les longueurs de ces traits et complète.



A



C



B



D

Le trait le plus long est le B

Le trait le plus long est le ... C

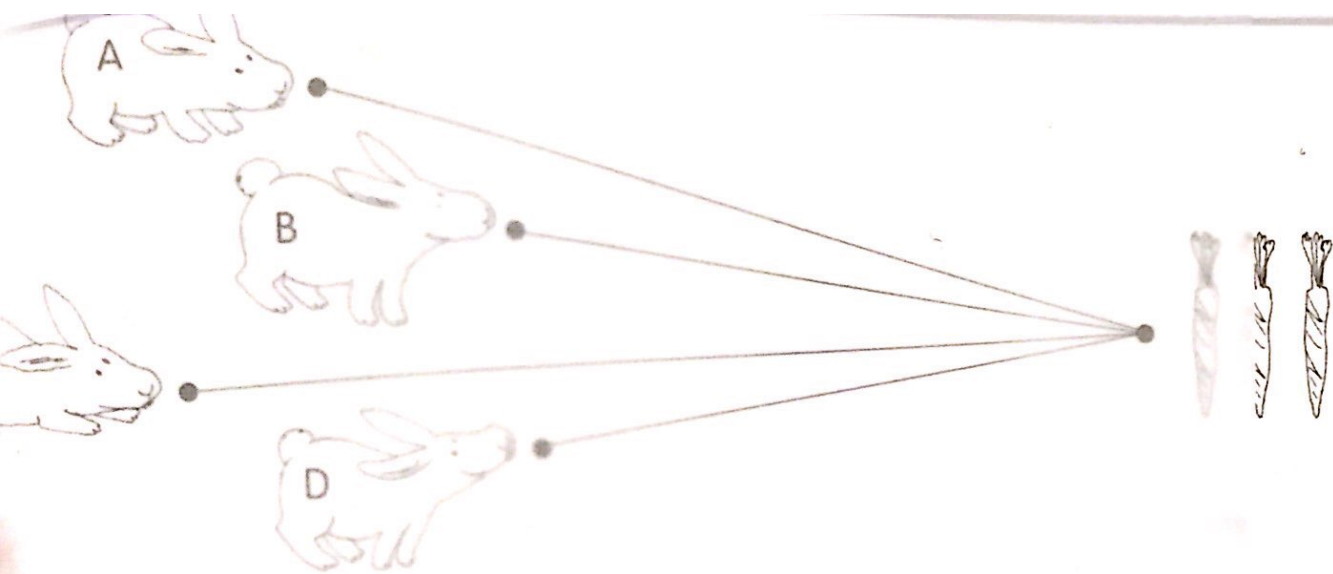


E



F

Le trait le plus long est le E



le lapin C ... a effectué le trajet le plus long jusqu'au champ de carottes.
le lapin B et le lapin ... D ... ont effectué un trajet de même longueur.