

Monsieur Kangourou



Monsieur Kangourou
adorait le rock
Madame Kangourou aimait le
tango

Disques branchés,
oreilles **casquées**

Chacun écoutait

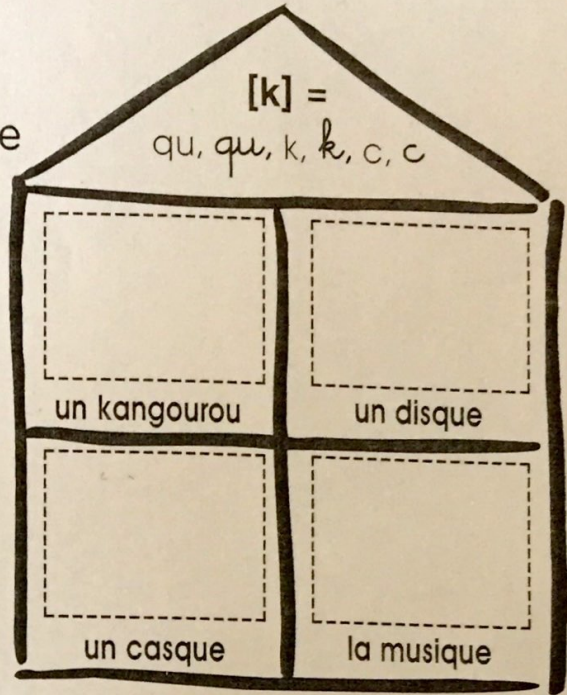
Sa **musique** préférée

Kang kang tango rock







Kang kang rock tango

Kang kang tango rock


C'est le tango kangourou rock



- 1 Colle les dessins au bon endroit dans la maison du [k].
- 2 Dans les cases sous les mots, fais une croix quand tu entends le son [k]. Ensuite, entoure dans les mots la ou les lettres qui font le son [k].

	un coquillage □□□□		un casque □□
	un képi □□		un coq □
	un koala □□□		un concombre □□□

- 3 Monsieur Kangourou fait le ménage en vidant sa poche. Colorie en bleu quand tu vois des lettres qui font le son [k]. Barre les autres.





Letters scattered around the kangaroo: pu, c, p, qu, k, qu, k, d, q, du, c, b.


C'est le tango kangourou rock


Colle les dessins au bon endroit dans la maison du [k].


Dans les cases sous les mots, fais une croix quand tu entends le son [k]. Ensuite, entoure dans les mots la ou les lettres qui font le son [k].


 un coquillage

 un casque

 un képi

 un coq

 un koala


 un concombre

Monsieur Kangourou fait le ménage en vidant sa poche.
 Colorie en bleu quand tu vois des lettres qui font le son [k].
 Barre les autres.



Letters in pockets: ~~pu~~, c, ~~p~~, qu, k, ~~d~~, qu, ~~du~~, c, ~~b~~, ~~d~~, q


Dans la cour, il y a 28 enfants. 15 autres enfants vont entrer dans la cour.
Combien y aura-t-il d'enfants dans la cour ?



Dédé calcule $28 + 15$.

Il imagine que ses points sont des enfants.

Calcule.



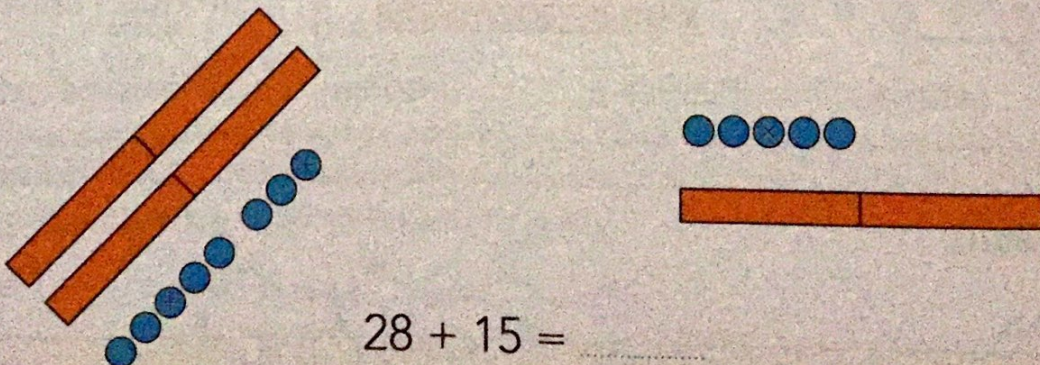
$$28 + 15 = \dots\dots\dots$$



Picbille calcule $28 + 15$.

Il imagine que ses jetons sont des enfants.

Calcule.



$$28 + 15 = \dots\dots\dots$$



Calcule en dessinant comme Dédé.

$$25 + 24$$



$$25 + 24 = \dots\dots\dots$$

Calcule en dessinant comme Picbille.

$$18 + 38$$



$$18 + 38 = \dots\dots\dots$$


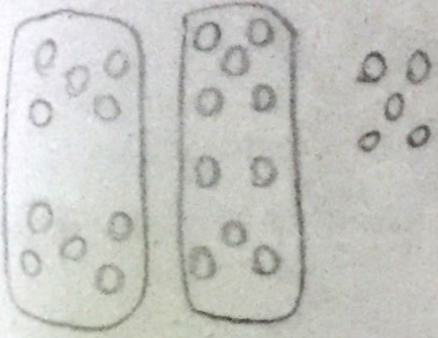
Complète.

- Dans un bouquet, il y a 18 fleurs. On ajoute 38 fleurs.
Maintenant, il y a fleurs en tout.
- Madame Ledoux a 18 euros dans son portemonnaie. Elle y met 38 autres euros.
Maintenant, madame Ledoux a euros dans son portemonnaie.

Invente d'autres problèmes d'addition avec les nombres 18 et 38.

... en dessinant comme Dédé.

$$25 + 24$$


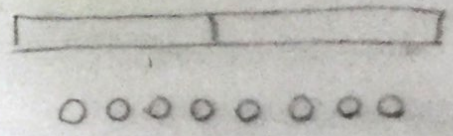


$$25 + 24 = 49$$



... en dessinant comme Picbille.

$$18 + 38$$



$$18 + 38 = 56$$



... bouquet, il y a 18 fleurs. On ajoute 38 fleurs.

... bouquet, il y a 56 fleurs en tout.

... madame Ledoux a 18 euros dans son portemonnaie. Elle y met 38 autres euros.

... madame Ledoux a 56 euros dans son portemonnaie.

... problèmes d'addition avec les nombres 18 et 38.